

제 4 교시

사회탐구 영역(세계 지리)

성명

수험번호

3


1

1. 다음 자료의 ㉠~㉥에 대한 설명으로 옳지 않은 것은?

○○백과 **자메이카의 커피** 검색

㉠ 북위 18°, 서경 77°에 위치한 자메이카는 세계적으로 유명한 ㉡ 블루마운틴 커피의 생산지이다. 블루마운틴 지역은 해발고도가 높은 산악 지대로 안개가 잦고, 배수가 잘되는 토양이 나타난다. 이곳의 커피는 1700년대에 재배되기 시작하였으며 ㉢ 지리적 표시제에 등록되어 있다.

자메이카는 ㉣ 과거 영국의 식민지였으며, 주민의 대부분은 아프리카계 후손이다. 아프리카계는 식민지 시절 ㉤ 사탕수수 농장의 노동력 부족 문제를 해결하기 위해 강제로 이곳에 유입되었다.




- ① ㉠: 공간 정보에 해당한다.
 ② ㉡: 주로 기계화된 영농 방식으로 재배된다.
 ③ ㉢: 지역 특산물의 가치 상승이 주된 목적이다.
 ④ ㉣: 공용어로 영어를 사용하게 된 배경이 된다.
 ⑤ ㉤: 설탕의 원료로 이용된다.

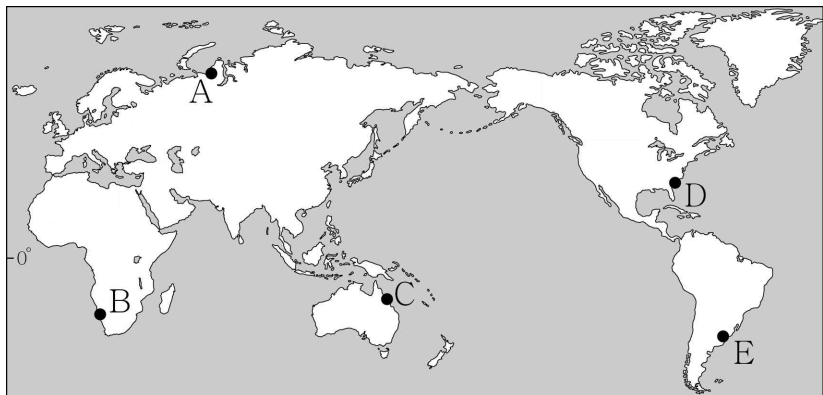
2. 다음 자료의 '이곳'을 지도의 A~E에서 고른 것은? [3점]

나무가 거의 없는 이곳에도 잎이 매우 큰 ○○식물이 자라고 있다. 이 식물은 수분을 뿌리로 흡수하기보다는 바다로부터 밀려 온 안개가 잎에 닿아 맺힌 이슬을 흡수하며 생존한다.

이곳의 □□개구리는 대부분 모래 언덕에 10~20cm가량 굴을 파서 생활하는데, 안개가 자욱하게 낀 때에 먹이를 찾아 굴에서 나온다.



< □□개구리 >



- ① A ② B ③ C ④ D ⑤ E

3. 다음 자료의 (가) 지역을 지도의 A~E에서 고른 것은?

지오(@geo) 팔로우

나는 여름 방학 때 ○○축제에 참가해 즐거운 시간을 보냈어. 이 축제와 관련된 주요 단어를 적을 테니 어디서 열리는 축제인지 맞춰 볼래?

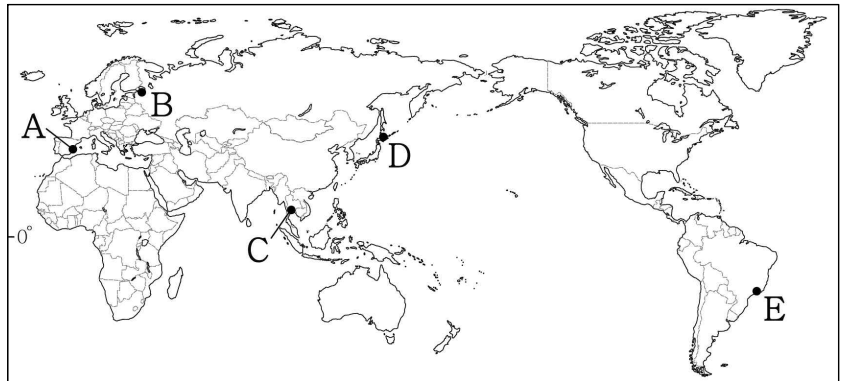
#토마토 #특산물 #지중해성 기후 #8월 마지막 주 수요일

9 7 3

트립(@trip)님이 지오(@geo)님에게 보내는 답글
아하! 알겠어! ○○축제는 (가) 에서 열렸어!

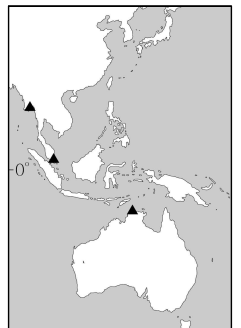
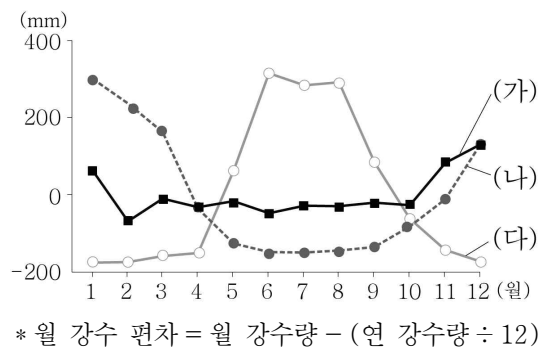
지오(@geo)님이 트립(@trip)님에게 보내는 답글
그래! 맞았어!

2 6 4



- ① A ② B ③ C ④ D ⑤ E

4. 그래프는 지도에 표시된 세 지역의 월 강수 편차를 나타낸 것이다. (가)~(다) 지역에 대한 옳은 설명을 <보기>에서 고른 것은? [3점]

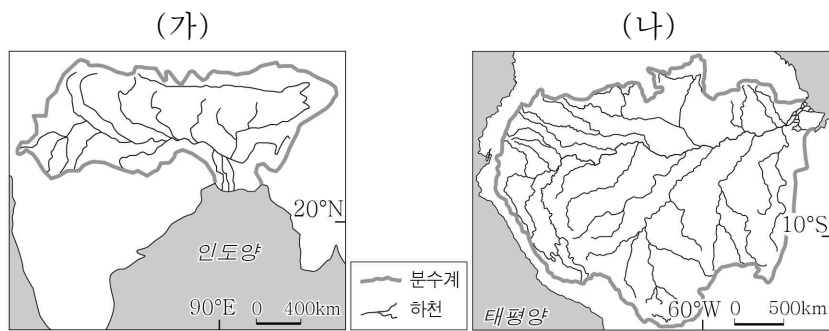


< 보 기 >

- ㄱ. (가)는 (나)보다 1월의 낮 길이가 길다.
 ㄴ. (나)는 (다)보다 7월에 아열대 고압대의 영향을 많이 받는다.
 ㄷ. (다)는 (가)보다 건기와 우기가 뚜렷하다.
 ㄹ. (가)~(다)는 모두 기온의 일교차보다 연교차가 크다.

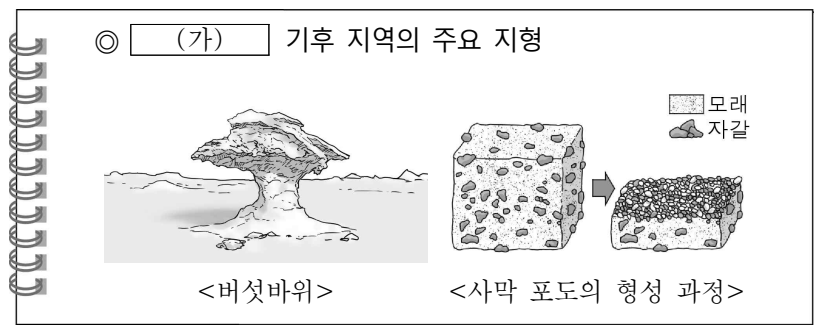
- ① ㄱ, ㄴ ② ㄱ, ㄷ ③ ㄴ, ㄷ ④ ㄴ, ㄹ ⑤ ㄷ, ㄹ

5. (가), (나) 하천에 대한 설명으로 옳지 않은 것은? [3점]



- ① (가)의 하구에는 삼각주가 발달해 있다.
- ② (나)의 유역에는 열대 기후가 넓게 나타난다.
- ③ (가)는 (나)보다 하구에서 평균 유량이 많다.
- ④ (가)와 (나)는 여러 국가에 걸쳐 흐르는 국제 하천이다.
- ⑤ (가)와 (나)는 하천 상류에 만년설이 쌓인 산지가 나타난다.

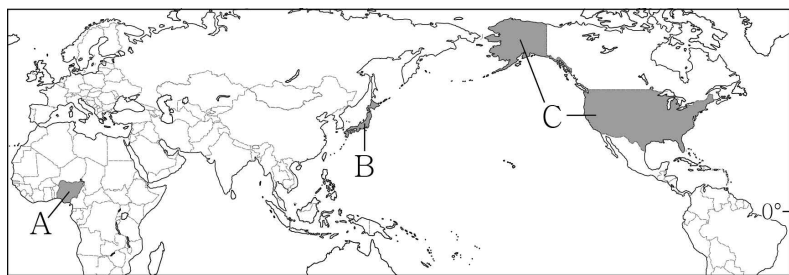
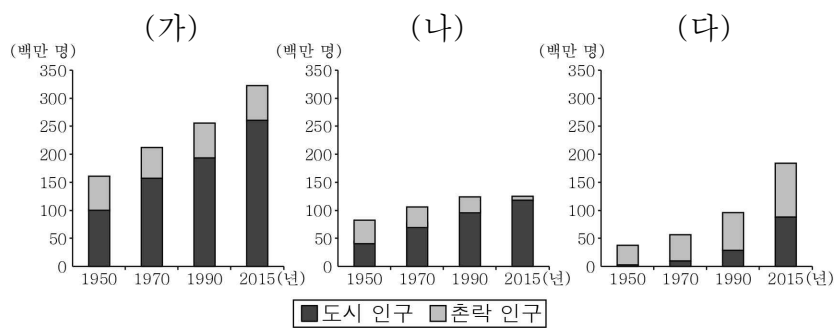
6. (가) 기후 지역에 대한 옳은 설명을 <보기>에서 고른 것은?



- < 보 기 >
- ㄱ. 대류성 강수가 자주 내린다.
 - ㄴ. 강수량보다 증발량이 더 많다.
 - ㄷ. 최난월 평균 기온이 0℃ 미만이다.
 - ㄹ. 화학적 풍화 작용보다 물리적 풍화 작용이 활발하다.

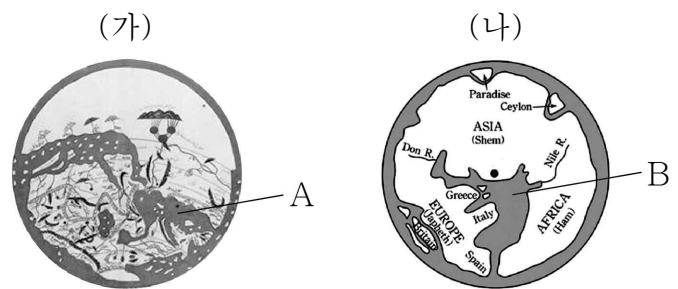
- ① ㄱ, ㄴ ② ㄱ, ㄷ ③ ㄴ, ㄷ ④ ㄴ, ㄹ ⑤ ㄷ, ㄹ

7. 그래프는 세 국가의 도시 및 촌락 인구 변화를 나타낸 것이다. (가)~(다)에 해당하는 국가를 지도의 A~C에서 고른 것은?



- | | | | | | |
|---------|---------|-----|-----|-----|-----|
| (가) | (나) | (다) | (가) | (나) | (다) |
| ① A B C | ② B A C | | | | |
| ③ B C A | ④ C A B | | | | |
| ⑤ C B A | | | | | |

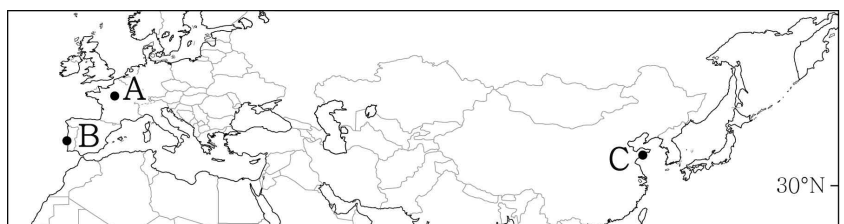
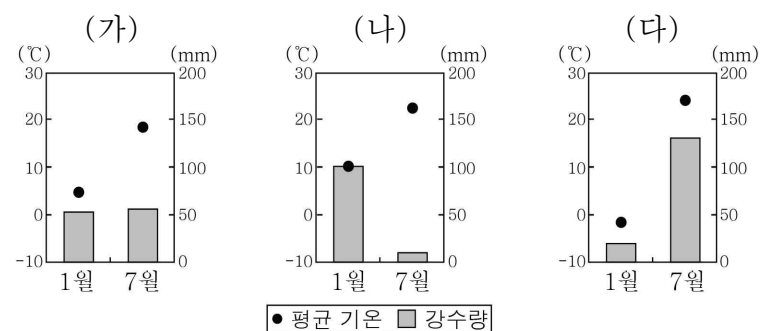
8. (가), (나) 지도에 대한 옳은 설명을 <보기>에서 고른 것은?



- < 보 기 >
- ㄱ. (가)의 A와 (나)의 B는 인도양이다.
 - ㄴ. 지도의 위쪽이 (가)는 남쪽, (나)는 동쪽을 가리킨다.
 - ㄷ. (가)는 이슬람교, (나)는 그리스교 성지를 지도의 중심 부에 두었다.
 - ㄹ. (가)와 (나)에는 아메리카 대륙이 표현되어 있다.

- ① ㄱ, ㄴ ② ㄱ, ㄷ ③ ㄴ, ㄷ ④ ㄴ, ㄹ ⑤ ㄷ, ㄹ

9. 그래프의 (가)~(다) 지역을 지도의 A~C에서 고른 것은?



- | | | | | | |
|---------|---------|-----|-----|-----|-----|
| (가) | (나) | (다) | (가) | (나) | (다) |
| ① A B C | ② A C B | | | | |
| ③ B A C | ④ B C A | | | | |
| ⑤ C B A | | | | | |

10. 다음 자료는 세계 지리 수업의 모듈별 발표 계획이다. 주제에 적합한 조사 내용을 제시한 모듈을 고른 것은? [3점]

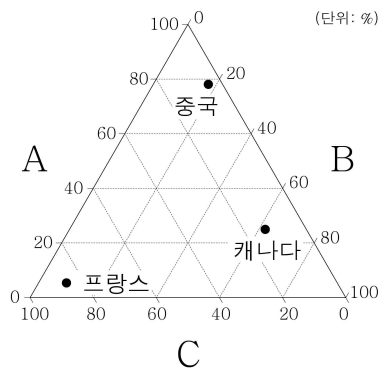
모듈별 발표 계획		
모듈	주제어	조사 내용
금강	탈공업화	영국의 제조업 비중 감소와 서비스업 비중 증가에 따른 직업 구성의 변화
백두	공간적 분업	미국 자동차 기업의 본사, 연구소, 생산 공장의 입지 현황
설악	산업 클러스터	일본 제조업체의 국내 공장 폐쇄와 해외 공장 신설에 따른 파급 효과
한라	산업 공동화	프랑스 소피아 앙티폴리시에 첨단 산업 관련 대학과 연구 기관이 모여든 요인

- ① 금강, 백두 ② 금강, 설악 ③ 백두, 설악
- ④ 백두, 한라 ⑤ 설악, 한라

[세계 지리] 사회탐구 영역

3

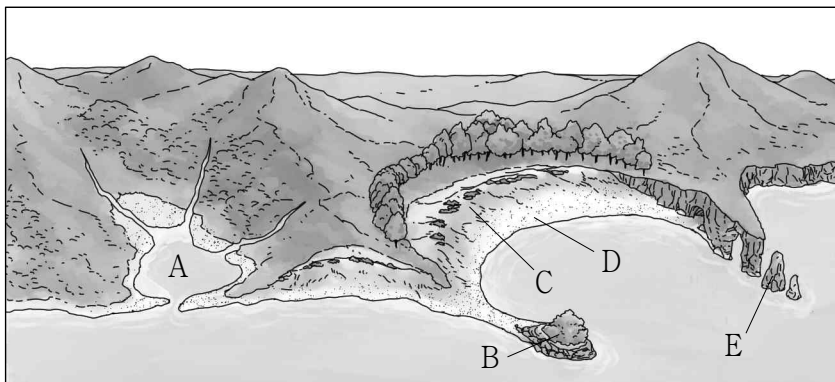
11. 그래프는 세 국가의 발전 양식별 발전량 비중을 나타낸 것이다. A~C 발전 양식에 대한 설명으로 옳은 것은? (단, A~C는 수력, 화력, 원자력 중 하나임.) [3점]



* 각 국가의 수력, 화력, 원자력 발전량 합을 100%로 했을 때, 각 발전 양식별 발전량 비중을 나타낸 것임. (2014)

- ① A는 방사성 폐기물 처리 비용이 많이 든다.
- ② B는 발전 과정에서 대기 오염 물질이 많이 배출된다.
- ③ C는 재생 가능한 자원을 에너지원으로 사용한다.
- ④ A는 B보다 세계 발전량에서 차지하는 비중이 높다.
- ⑤ B는 C보다 상업적 발전이 시작된 시기가 늦다.

12. 그림은 해안 지형을 모식적으로 나타낸 것이다. A~E 지형에 대한 설명으로 옳지 않은 것은? [3점]



- ① A는 후빙기 해수면 상승으로 형성되었다.
- ② B는 사주의 성장으로 육지와 연결되었다.
- ③ C는 바람에 의해 모래가 퇴적되어 형성되었다.
- ④ D는 만입부보다 돌출부에서 주로 형성된다.
- ⑤ E는 파랑의 침식으로 육지와 분리되었다.

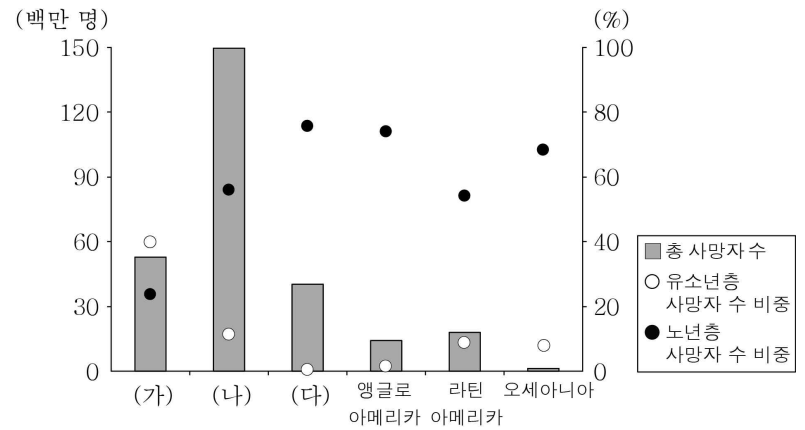
13. 다음 자료의 ㉠~㉥에 대한 설명으로 옳은 것은?

난 케냐 남부를 여행 중이야. 이곳은 ㉠ 사바나 기후 지역으로 ㉡ 계절에 따라 누 때가 물과 풀을 찾아 이동하는 모습을 볼 수 있어. 내일은 ㉢ 지구대라 불리는 긴 협곡에 발달한 화산을 답사할 예정이야.

난 지금 아이슬란드에 있어. 이곳은 ㉣ 밤인데도 해가 지지 않아 여행하기에 좋아. 어제는 ㉤ 주기적으로 물과 수증기를 분출하는 간헐천을 보았어.

- ① ㉠: 편서풍의 영향으로 연중 강수가 고르다.
- ② ㉡: 토양층의 동결과 융해가 반복되기 때문이다.
- ③ ㉢: 두 개의 판이 서로 부딪쳐서 형성되었다.
- ④ ㉣: 겨울철에 주로 나타나는 현상이다.
- ⑤ ㉤: 지열 발전에 유리한 자연 조건에 해당한다.

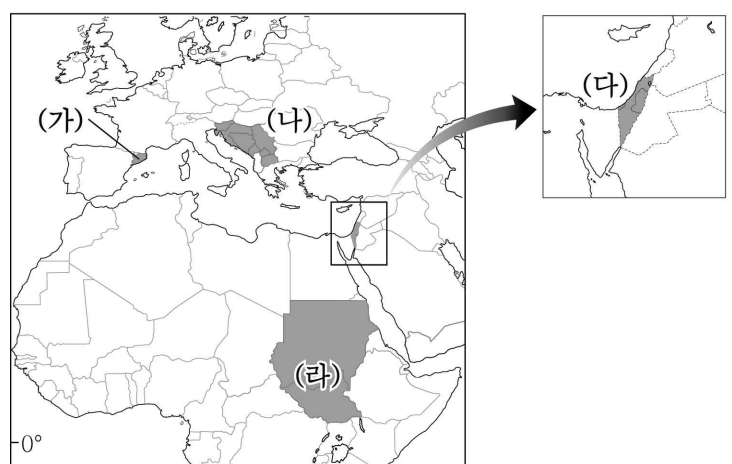
14. 그래프는 지역별 인구 특징을 나타낸 것이다. 이에 대한 설명으로 옳은 것은? (단, (가)~(다)는 유럽, 아시아, 아프리카 중 하나임.) [3점]



* 유소년층(노년층) 사망자 수 비중은 총 사망자 수에서 유소년층(노년층) 인구의 사망자 수가 차지하는 비중임. (2010~2015)

- ① (가)는 (다)보다 노령화 지수가 높다.
- ② (나)는 (다)보다 기대 수명이 길다.
- ③ 유럽은 아시아보다 노년층 사망자 수가 많다.
- ④ 아시아는 아프리카보다 노년층 사망자 수 비중이 높다.
- ⑤ 모든 지역은 유소년층 사망자 수보다 노년층 사망자 수가 많다.

15. 지도의 (가)~(라) 지역에 대한 옳은 설명을 <보기>에서 고른 것은?

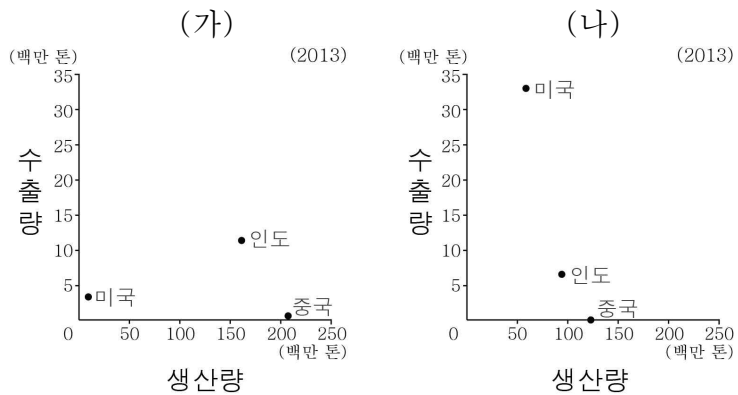


< 보 기 >

- ㄱ. (가)는 종교 차이로 분리 독립을 추진하면서 중앙 정부와 대립하고 있다.
- ㄴ. (나)는 민족과 종교가 다양한 지역으로 분쟁의 결과 여러 국가로 분리되었다.
- ㄷ. (다)는 이집트가 실효 지배하고 있다.
- ㄹ. (다)와 (라)에서 발생한 분쟁과 관련된 공통적인 종교는 이슬람교이다.

- ① ㄱ, ㄴ ② ㄱ, ㄷ ③ ㄴ, ㄷ ④ ㄴ, ㄹ ⑤ ㄷ, ㄹ

16. 그래프는 두 작물의 국가별 생산량과 수출량을 나타낸 것이다. (가), (나) 작물에 대한 설명으로 옳은 것은? (단, (가), (나)는 세계 3대 식량 작물 중 하나임.) [3점]



- ① (가)의 기원지는 아메리카 대륙이다.
- ② (나)는 주로 계절풍 기후의 충적 평야에서 재배된다.
- ③ (가)는 (나)보다 국제 이동량이 많다.
- ④ (나)는 (가)보다 단위 면적당 생산량이 많다.
- ⑤ (나)는 (가)보다 내한성과 내건성이 뛰어나다.

17. 다음 자료에 제시된 ㉠의 주된 형성 원인으로 옳은 것은?

월간 지형과 미술

발행/○○○
등록/20△△년 ○○월 □□일

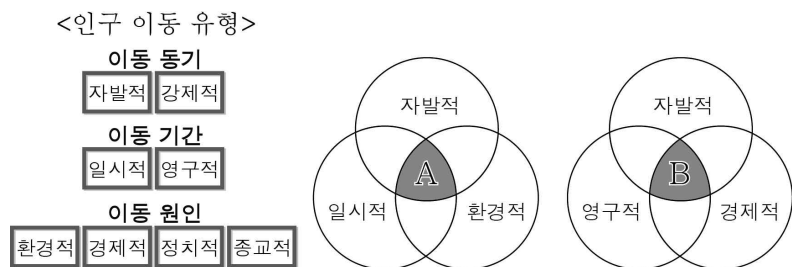
2018년 3월 창간호

몽크의 「절규」가 탄생한 곳은?

「절규」는 두려움에 떠는 인간의 내면을 바다로부터 이어지는 가파른 골짜기와 절벽, 그리고 그 사이를 오가는 배를 통해 표현한 작품이다. 이 그림의 공간적 배경은 ㉠ U자 형태의 골짜기와 좁고 긴 만(灣)이 발달한 노르웨이이다.

- ① 바람의 침식 작용
- ② 빙하의 침식 작용
- ③ 파랑의 퇴적 작용
- ④ 하천의 퇴적 작용
- ⑤ 기반암의 용식 작용

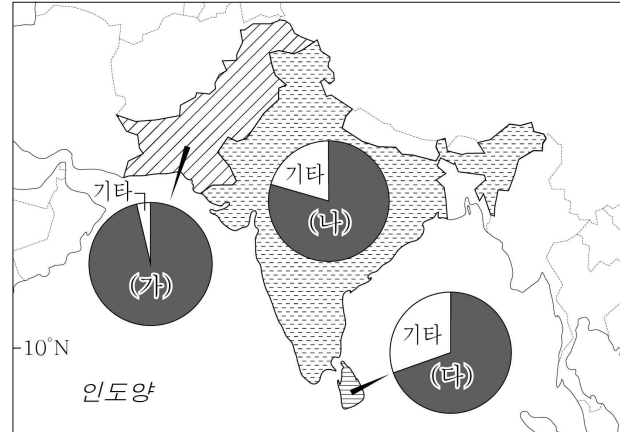
18. 그림의 A, B에 해당하는 인구 이동 사례를 <보기>에서 고른 것은?



- < 보 기 >
- ㄱ. 독일인이 휴가를 위해 지중해 연안 관광지로 이동함.
 - ㄴ. 영국 청교도가 종교의 자유를 찾아 미국으로 이주함.
 - ㄷ. 시리아 난민이 내전을 피해 남부 유럽 국가로 이주함.
 - ㄹ. 인도 IT 기술자가 취업을 위해 미국 실리콘밸리로 이민을 감.

- | | A | B | |
|---|---|---|---|
| ① | ㄱ | ㄴ | ② |
| ④ | ㄴ | ㄹ | ⑤ |
| | | | ㄹ |

19. 다음 자료의 (가)~(다) 종교에 대한 설명으로 옳은 것은? (단, (가)~(다)는 불교, 힌두교, 이슬람교 중 하나임.) [3점]



- ① (가)의 사원에는 다양한 신들의 모습이 조각되어 있다.
- ② (나)는 술과 돼지고기를 금기시한다.
- ③ (다)의 대표적인 종교 경관으로 불상과 불탑을 들 수 있다.
- ④ (나)는 (가)보다 전 세계의 신자 수가 많다.
- ⑤ (다)는 (가)보다 발생한 시기가 늦다.

20. 다음 글의 ㉠ ~ ㉤에 대한 설명으로 옳지 않은 것은? [3점]

영국에 본사를 둔 A 은행은 한국에서 소매 금융 사업을 철수하고 ㉠ 기업 금융 사업만 운영하고 있다. 그동안 ㉡ 외국계 은행들은 자국에서 달러를 가져다가 비교적 금리가 높았던 한국 시장에 투자해서 이윤을 남겼으나, 최근 두 국가 간 금리 차이가 크지 않아 투자 규모를 줄이고 있다.

글로벌 유통 업체들도 새로운 경영 전략을 추진하고 있다. 미국에서 대규모 창고형 매장을 운영하는 B 기업은 ㉢ 온라인 유통 업체를 인수하고 있으며, 이와 반대로 세계적인 온라인 유통 업체인 C 기업은 ㉣ 오프라인 유통 업체를 인수하고 있다. 또한, 인공 지능 개발과 ‘드론’을 이용한 새로운 배송 서비스를 구체화하는 등 ㉤ 첨단 기술과 결합한 유통 산업을 선도하고 있다.

- ① ㉠은 생산자 서비스업에 해당된다.
- ② ㉡은 금융의 세계화와 관련된 현상이다.
- ③ ㉢은 민간 서비스업에 해당된다.
- ④ ㉣의 확대는 새로운 직업을 창출하는 효과가 있다.
- ⑤ ㉤은 ㉢보다 구매 활동에서 시·공간적 제약을 많이 받는다.

※ 확인 사항

- 답안지의 해당란에 필요한 내용을 정확히 기입(표기)했는지 확인하시오.