


1. (가) 문명에 대한 설명으로 옳은 것은?

고대 문명의 유물 카드

(가)의 일각수 인장




이 인장은 모헨조다로에서 출토되었는데, 여기에 새겨진 그림과 글자는 아직 그 의미가 밝혀지지 않았다. (가)에서는 다양한 문양이 새겨진 인장이 제작되었는데 특히, 일각수 문양이 새겨진 것이 많이 출토되었다.

- ① 지구라트를 만들었다.
- ② 피라미드를 축조하였다.
- ③ 갑골 문자를 사용하였다.
- ④ 함무라비 법전을 편찬하였다.
- ⑤ 하라파에 계획도시를 건설하였다.

2. (가)에 들어갈 내용으로 적절한 것은? [3점]

역사와 도시

(가), 뤼베크를 가다.



▲ 청어 무역에 필요한 소금을 저장하였던 창고

뤼베크는 뛰어난 입지 조건을 바탕으로 함부르크·브레멘 등과 함께 중세 북유럽 교역을 주도하였다. 특히 뤼베크는 발트해와 북해 항로를 넘나들며 청어 무역 등을 활발하게 전개하였다.


- ① 한자 동맹의 중심지
- ② 아스테카 문명의 발원지
- ③ 페니키아인의 식민 도시
- ④ 동·서양에 걸친 제국의 수도
- ⑤ 예술을 후원한 메디치 가문의 근거지

3. (가) 전쟁에 대한 설명으로 옳은 것은?

세계사 블로그

프로로그 인물 세계사 사건 세계사

아이스킬로스 조회수 2,018회



아이스킬로스는 그리스의 대표적인 극작가이다. 그는 (가)의 마라톤 전투와 살라미스 해전에 참전하였다. 그의 작품 중 하나인 『페르시아인』에는 살라미스 해전의 모습이 묘사되어 있다.

- ① 참주가 출현하는 결과를 낳았다.
- ② 미케네 문명의 파괴를 초래하였다.
- ③ 아테네 민주정 발전에 영향을 주었다.
- ④ 헬레니즘 문화 성립의 계기가 되었다.
- ⑤ 라티퐁디움이 확산되는 배경이 되었다.

4. (가) 국가에서 볼 수 있었던 모습으로 가장 적절한 것은?

대진국에서 높은 덕을 가진 아라본이라는 분이 경전을 가지고 험한 길을 달려 (가)의 수도 장안에 이르렀다. 태종은 그를 궁궐로 맞아 궁전의 서재에서 경전을 번역하게 하셨다. …… 숙종은 영무 등 다섯 지역에 경교 사원을 더 지으셨다.

— 「대진경교유행중국비」 —

- ① 홍루몽을 읽는 신사
- ② 당삼채를 굽는 도공
- ③ 이감제 실시를 명하는 황제
- ④ 물건 값을 교자로 받는 상인
- ⑤ 황건적의 난을 피해 도망가는 호족

5. 밑줄 친 ‘이 혁명’의 영향으로 옳은 것은? [3점]

이 혁명의 원인은 여러 가지이다. 첫째는 선거권 확대 요구를 수용하지 않는 정부에 대한 불만, 둘째는 60년도 안 되는 세월 동안 왕정, 공화정, 제정, 왕정으로 이어지는 과정에서 야기된 혼란을 들 수 있다. 또한 7월 왕정 시기, 국왕 루이 필리프와 각료들이 보여준 실책과 무능도 이 혁명이 일어나게 된 요인 중 하나이다.

- ① 그리스가 독립하였다.
- ② 빈 체제가 붕괴되었다.
- ③ 대륙 봉쇄령이 내려졌다.
- ④ 백년 전쟁이 발발하였다.
- ⑤ 미국 독립 혁명이 일어났다.

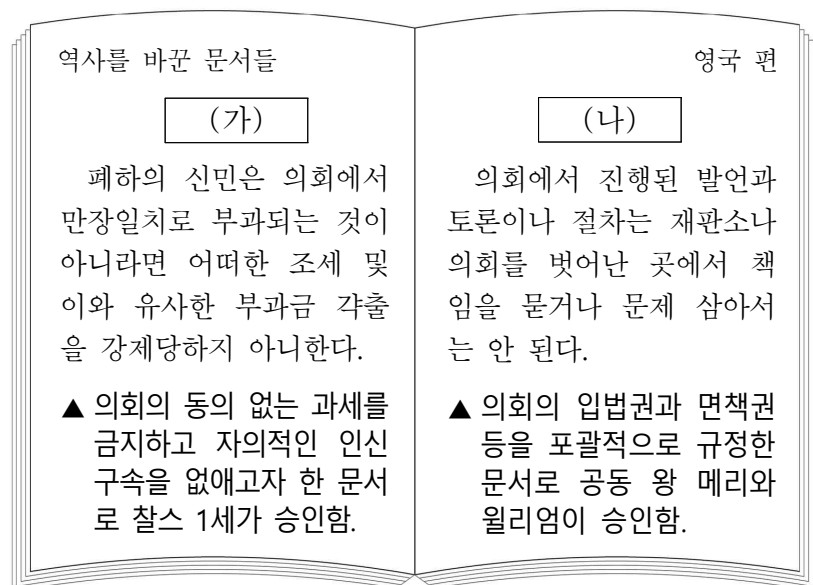
6. 다음 대화를 소재로 한 탐구 활동으로 가장 적절한 것은?

[3점]



- ① 도스안의 내용을 분석한다.
- ② 3B 정책의 목적을 알아본다.
- ③ 마셜 계획의 배경을 파악한다.
- ④ 페레스트로이카의 영향을 살펴본다.
- ⑤ 국제 연맹의 출범 과정을 정리한다.

7. (가), (나) 문서가 승인된 사이의 시기에 있었던 사실로 옳은 것은? [3점]



- ① 장미 전쟁이 발발하였다.
- ② 차티스트 운동이 시작되었다.
- ③ 존 왕이 대헌장을 승인하였다.
- ④ 크롬웰이 공화정을 수립하였다.
- ⑤ 항해법과 곡물법이 폐지되었다.

8. 교사의 질문에 대한 학생의 답변으로 적절한 것만을 <보기>에서 있는 대로 고른 것은? [3점]

그림은 콜럼버스가 에스파냐의 왕에게 서쪽 항로 개척의 필요성을 설명하는 장면입니다. 콜럼버스의 항해 이후 아메리카로 가는 다양한 항로가 개척되었습니다. 이러한 항로 개척이 유럽 사회에 끼친 영향을 말해보세요.

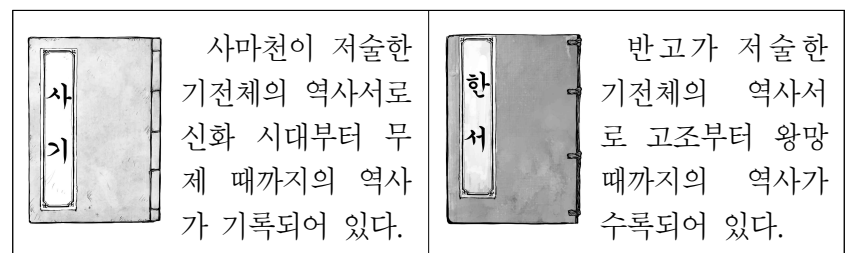


< 보 기 >

- ㄱ. 삼포제가 도입되었습니다.
- ㄴ. 가격 혁명이 일어났습니다.
- ㄷ. 십자군 전쟁이 시작되었습니다.
- ㄹ. 감자, 고구마 등의 작물이 전래되었습니다.

- ① ㄱ, ㄷ                      ② ㄱ, ㄹ                      ③ ㄴ, ㄹ
- ④ ㄱ, ㄴ, ㄷ                ⑤ ㄴ, ㄷ, ㄹ

9. 다음 역사서들이 편찬된 왕조 시기의 문화에 대한 설명으로 옳은 것은?




- ① 경극이 공연되었다.
- ② 제자백가가 출현하였다.
- ③ 오경정의가 편찬되었다.
- ④ 청담 사상이 유행하였다.
- ⑤ 유교가 통치 이념으로 자리 잡았다.

10. 밑줄 친 '그'에 대한 설명으로 옳은 것은?

로마에서 개최된 회의에 참석한 사람들은 프랑크인들의 왕을 황제로 추대해야 마땅하다고 생각하였다. .... 교황 레오 3세가 그의 머리에 왕관을 씌우자, 로마의 시민들은 다음과 같이 환호하였다. "위대한 자, 신이 왕관을 씌운 분, 위대하고 평화로운 황제에게 생명과 승리를 주소서!"

- ① 둠즈데이 북을 작성하였다.
- ② 알렉산드리아를 건설하였다.
- ③ 성 소피아 성당을 축조하였다.
- ④ 에스파냐의 무적함대를 격파하였다.
- ⑤ 궁정 학교를 세워 문예를 부흥시켰다.

11. 밑줄 친 ‘황제’의 재위 시기에 볼 수 있었던 모습으로 적절한 것은?



이 비석은 1409년에 조성된 것으로 스리랑카 남부 해안 도시인 갈(Galle)에서 발견되었다. 이 비석에는 한자, 타밀 문자, 페르시아 문자가 새겨져 있으며 한자로 적힌 내용을 요약하면 다음과 같다. “황제가 정화를 석란산(스리랑카)에 파견하니 신뢰가 깊어졌다. 예의를 갖추어 널리 베푸니 큰 덕이 영원히 이어질 것이다.”

- ① 자금성을 건설하는 인부
- ② 네르친스크 조약을 체결하는 관리
- ③ 진승·오광의 난을 진압하는 군인
- ④ 균전제 실시로 토지를 지급 받는 농민
- ⑤ 왕안석의 신법 시행을 반대하는 대상인

12. 다음 선언을 계기로 성립된 정부의 정책으로 옳은 것을 <보기>에서 고른 것은? [3점]

도쿠가와 요시노부가 지금까지 위임받아 행사하던 통치권을 반환하게 하고 쇼군직에서 물러나게 하자는 건의를 천황께서 받아들이셨다. .... 이에 따라 왕정을 복고하여 국가의 위엄을 만회할 기반을 세우기로 하셨다. 지금부터 섭정, 관백, 막부 등을 폐지하고 우선 임시로 총재, 의정, 참여의 3직을 두어 정무를 처리할 것이다.

- 왕정복고의 대호령 -

< 보 기 >

ㄱ. 징병제를 실시하였다.  
 ㄴ. 폐번치현을 단행하였다.  
 ㄷ. 산킨코타이 제도를 시행하였다.  
 ㄹ. 미국의 압력에 굴복하여 개항하였다.

① ㄱ, ㄴ                      ② ㄱ, ㄷ                      ③ ㄴ, ㄷ  
 ④ ㄴ, ㄹ                      ⑤ ㄷ, ㄹ

13. 다음 선언이 발표된 이후에 있었던 사실로 옳은 것은?

새롭게 등장한 내각은 우리 쓰촨의 철도를 국유화하겠다는 조치를 발표하였다. 내각은 그 철도의 권리를 영국, 프랑스 등에게 넘기려 한다. .... 우리는 보로(保路: 철도를 지킴)라는 이름으로 인민을 규합하여 함께 막아낼 것이다. 이를 통해 만주족의 지배를 타도하고 권리를 지킬 것이다.

① 신축조약이 체결되었다.  
 ② 중화민국이 수립되었다.  
 ③ 중국 동맹회가 결성되었다.  
 ④ 청·일 전쟁이 발발하였다.  
 ⑤ 변법자강 운동이 시작되었다.


14. (가) 도서에 대한 설명으로 옳은 것은? [3점]

이달의 청소년 추천 도서

◦ 도서명 : (가)  
 ◦ 저자 : 찰스 다윈  
 ◦ 주요 문구 : “생존 경쟁은 모든 생물이 높은 비율로 증식하고자 하는 경향을 띠는 데서 필연적으로 나타나는 현상이다.”  
 ◦ 핵심 개념 : 생존 경쟁, 자연 도태, 적자생존

- ① 상대성 이론이 담겨 있다.
- ② 계몽사상을 집대성하였다.
- ③ 사회 진화론에 영향을 주었다.
- ④ 지동설을 과학적으로 입증하였다.
- ⑤ 기계론적 우주관의 성립에 기여하였다.

15. 밑줄 친 ‘이 제국’에서 있었던 사실로 옳은 것은? [3점]



그림은 파니파트 전투 모습을 묘사한 것이다. 이 전투에서 바부르는 병력의 열세를 극복하고 델리 술탄 시대의 마지막 왕조를 무너뜨렸다. 특히 그는 오스만 제국에서 수입한 대포를 이용하여 적군의 코끼리 부대를 혼란시키는 전략으로 승리하였다. 이 승리를 계기로 아그라까지 진격한 바부르는 그곳에서 이 제국을 세웠다.

- ① 타지마할이 건설되었다.
- ② 대승 불교가 성립되었다.
- ③ 산치 대탑이 축조되었다.
- ④ 간다라 양식이 출현하였다.
- ⑤ 우파니샤드 철학이 등장하였다.

16. (가) 국가의 경제 상황을 알아보기 위한 탐구 활동으로 가장 적절한 것은?

『도성기승』에는 □(가)의 수도 카이펑의 시장 모습이 다음과 같이 기록되어 있다. “시장에서 행(行)이라 일컬어지는 것은 관아의 물품 징발로 말미암아 생겨났다. 물건의 크기와 관계없이 관아의 수요와 관계되는 것에는 모두 행이 설치되었다. …… 그 밖에 수공업자들은 작(作)이라 이름을 붙였다. ‘참빛 작’, ‘허리띠 작’ 등이 그것이다.”

- ① 지정은제가 시행된 결과를 분석한다.
- ② 감합 무역이 시행된 배경을 알아본다.
- ③ 우경의 시작이 농업에 끼친 영향을 파악한다.
- ④ 청명상하도에 나타난 시장의 모습을 살펴본다.
- ⑤ 공행 무역을 통해 유럽에 수출된 물품을 조사한다.

17. 밑줄 친 ‘이 왕조’에 대한 설명으로 옳은 것은? [3점]



- ① 예니체리를 창설하였다.
- ② 이베리아 반도를 차지하였다.
- ③ 몽골 제국의 부흥을 내세웠다.
- ④ 바그다드에 수도를 건설하였다.
- ⑤ 군관구제와 둔전병제를 실시하였다.

18. (가)에 들어갈 내용으로 적절한 것은? [3점]

국외 체험 학습 신청서			
성명	△△△		학년 / 반 3학년 □반
방문국	○○○	기간	2018. 8. 6. ~ 8. 9.(4일간)
학습 계획	◦ 목적: 외세의 침략에 대항한 ○○○ 역사 알아보기		
	◦ 학습 활동 - 쩌홍다오가 몽골군을 물리친 바익당강 둘러보기 - 동유 운동을 주도한 판보이쩌우의 기념관 관람하기 - □(가)		

- ① 무스타파 케말의 생가 방문하기
- ② 호찌민 동상에서 그의 생애 알아보기
- ③ 자와에 위치한 카르티니 묘지 찾아가기
- ④ 라마 5세가 거주했던 짜끄리 궁전 둘러보기
- ⑤ 호세 리살 기념관이 있는 산티아고 요새 관람하기

19. (가) 국가에 대한 설명으로 옳은 것은?



- ① 사고전서를 편찬하였다.
- ② 분서갱유를 단행하였다.
- ③ 9품중정제를 시행하였다.
- ④ 파스파 문자를 사용하였다.
- ⑤ 금의 침입으로 멸망하였다.

20. (가)에 들어갈 내용으로 적절한 것은?



- ① 뉴딜 정책 추진
- ② 대약진 운동 시행
- ③ 신경제 정책(NEP) 실시
- ④ 마스트리히트 조약 체결
- ⑤ 세계 무역 기구(WTO) 창설 주도

※ 확인 사항

- 답안지의 해당란에 필요한 내용을 정확히 기입(표기)했는지 확인하시오.