

사회탐구 영역(사회·문화)

제 4 교시

성명

수험번호

3

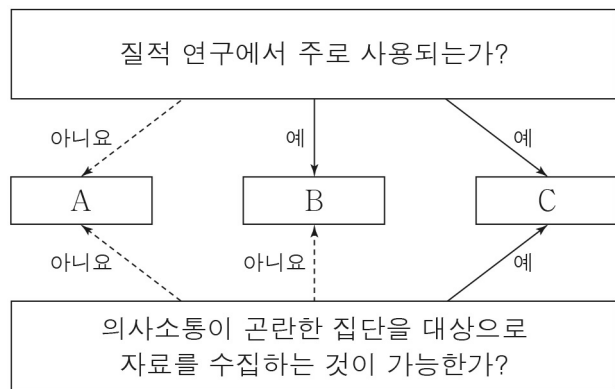
1

1. 밑줄 친 ㉠ ~ ㉣과 같은 현상의 일반적인 특징에 대한 설명으로 옳은 것은?

커피를 마시는 습관은 8세기경 이슬람교의 신비주의 종파인 수피교에서 시작되었다고 한다. 수피교도들은 밤을 새워 명상을 할 때 커피를 마시곤 하였는데, 이는 커피에 함유된 ㉠카페인^이 중추 신경계를 자극하여 각성 효과를 일으키기 때문이다. 이후 커피는 ㉡17세기에 유럽으로 전파되었는데 맛이 쓰고 영양소도 적은 탓에 인기가 없었다. 하지만 상인들은 ‘이성(理性)을 각성시키는 음료’라는 이미지로 커피를 홍보했고 그 결과 유럽에서 ㉢커피에 대한 수요는 크게 증가하였다.

- ① ㉠과 같은 현상은 가치 함축적이다.
- ② ㉡과 같은 현상은 존재 법칙의 지배를 받는다.
- ③ ㉢과 같은 현상은 확률의 원리를 따른다.
- ④ ㉠과 같은 현상은 ㉢과 같은 현상과 달리 경험적 자료로 연구가 가능하다.
- ⑤ ㉡과 같은 현상은 ㉠과 같은 현상에 비해 법칙 발견이 용이하다.

2. 자료 수집 방법 A ~ C의 일반적인 특징에 대한 설명으로 옳은 것은? (단, A ~ C는 각각 면접법, 질문지법, 참여 관찰법 중 하나이다.) [3점]



- ① A는 B에 비해 대량의 구조화된 자료를 얻는 데 유리하다.
- ② B는 C와 달리 1차 자료를 얻는 데 사용된다.
- ③ C는 A에 비해 자료 수집 과정에서 시간과 비용이 적게 든다.
- ④ C는 B와 달리 연구자와 연구 대상자 간 정서적 교감을 중시한다.
- ⑤ A는 B, C에 비해 연구자의 주관의 개입될 가능성이 높다.

3. 사회 조직의 유형 A, B에 대한 설명으로 옳은 것은? [3점]

A는 특정한 목표 달성과 과업 수행을 위해 의도적이고 합리적인 기준에 따라 형성된 사회 조직이다. B는 A의 안에서 구성원들 간의 친밀한 인간관계를 바탕으로 형성되며, A의 목표와는 별개의 목표를 지닌다.

- ① A는 공통의 관심사나 목표를 바탕으로 자발적으로 결성된다.
- ② B의 구성원 모두에게 A는 준거 집단이다.
- ③ B의 구성원은 A에서와는 다른 지위와 역할을 지닌다.
- ④ B는 A와 달리 공동 사회에 해당한다.
- ⑤ 이익 집단은 A에, 시민 단체는 B에 해당한다.

4. 다음 글에 나타난 문화 이해의 관점에 대한 설명으로 가장 적절한 것은?

스칸디나비아 반도 최북단 지역의 ○○ 부족은 오랫동안 순록 목축을 중심으로 전통적인 유목 생활을 해 왔다. 그러나 1960년대 스노모빌이라는 새로운 기계가 목축에 활용되면서 ○○ 부족의 삶에 큰 변화가 일어났다. 과거에는 온 가족이 함께 순록 목축과 관련된 일을 하였으나, 스노모빌 도입 이후 원거리 목축이 확대되면서 여성은 이에 적합하지 않다고 여겨져 남성이 목축을 더욱 주도하게 되었고 가족 내 성 역할의 분화도 심화되었다. 한편, 스노모빌을 사서 관리하는 데 들어가는 현금을 감당하기 위해 많은 이들이 빚에 얽매어 살거나 다른 일자리를 찾아 도시로 이주하게 되었다.



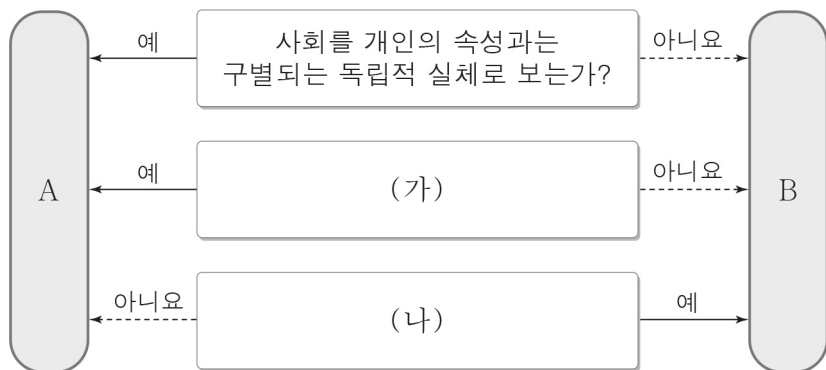
- ① 자문화를 기준으로 삼아 타문화를 폄하한다는 비판을 받는다.
- ② 여러 사회의 문화를 비교하여 각각의 특징을 파악하려고 한다.
- ③ 각 사회의 고유한 문화를 절대적인 기준으로 평가하려고 한다.
- ④ 타문화를 우월한 것으로 여겨 무비판적으로 수용할 우려가 있다.
- ⑤ 특정 문화 요소를 다른 문화 요소들과의 관련 속에서 이해하고자 한다.

5. 다음에 나타난 연구 윤리상의 문제점으로 가장 적절한 것은?

○ 대학 교수로 재직 중인 갑은 개인 연구를 진행하는 과정에서 본인의 수업을 듣는 학생들을 대상으로 설문을 실시하였다. 이 과정에서 갑은 설문에 응하지 않는 학생들에게는 성적에 불이익을 주겠다고 공지하였다.
○ 을은 직장 내 성 불평등 문화에 관한 연구를 위해 ○○ 기업 직원들에게 자신이 연구자임을 숨긴 채 그들의 직장 생활을 관찰하였다. 이후 을은 본인의 연구 결과를 발표하면서 자료의 사실성을 뒷받침하기 위해 회사명, 직원들의 직책 및 이름을 공개하였다.

- ① 갑은 자료 분석 단계에서 자의적으로 자료를 조작하였다.
- ② 을은 연구 대상자의 익명성을 보장하지 않았다.
- ③ 갑은 을과 달리 다른 사람의 연구 결과를 도용하였다.
- ④ 을은 갑과 달리 연구 대상자의 자발적 참여를 보장하지 않았다.
- ⑤ 갑, 을은 모두 연구 결과를 연구 외의 목적으로 사용하였다.

6. 그림은 개인과 사회의 관계를 바라보는 관점 A, B를 구분한 것이다. 이에 대한 옳은 설명을 <보기>에서 고른 것은? [3점]



< 보 기 >

- ㄱ. A는 사회가 개인의 총합에 불과하다고 본다.
 ㄴ. B는 개인이 사회를 변화시킬 수 있는 자율성을 지닌 주체라고 본다.
 ㄷ. (가)에는 ‘개인의 사고와 행동에 미치는 사회 구조의 영향력을 강조하는가?’가 들어갈 수 있다.
 ㄹ. (나)에는 ‘사회 문제의 발생 원인을 개인적 측면보다 제도적 측면에서 찾는가?’가 들어갈 수 있다.

- ① ㄱ, ㄴ ② ㄱ, ㄷ ③ ㄴ, ㄷ ④ ㄴ, ㄹ ⑤ ㄷ, ㄹ

7. 다음에 나타난 문화 변동에 대한 옳은 설명을 <보기>에서 고른 것은?

○○ 지역이 영국 식민지였던 시절, 영국인 선교사는 원주민들을 자신들의 문화에 동화시키기 위한 수단으로 영국 스포츠인 크리켓*을 소개하였다. 그러나 이곳에서는 크리켓 경기가 전쟁과 관련된 원주민들의 토착 문화와 결합하여 독특한 방식으로 변형되었다. 원주민들은 영국식 유니폼을 입는 대신 전투를 앞둔 전통적인 전사의 모습처럼 반나체의 몸에 깃털과 나뭇잎 등으로 치장을 하고 크리켓 경기를 한다. 배트를 무기처럼 장식하고 전쟁과 관련된 주술을 사용하기도 하며, 경기 인원 제한이 없어 부족 남성 수십 명이 한꺼번에 선수로 뛰곤 한다.

* 크리켓: 두 팀이 공격과 수비를 번갈아 하면서 득점을 겨루는 경기로, 야구와 유사하게 배트와 공을 사용함.

< 보 기 >

- ㄱ. 문화 접변의 결과 문화 융합이 나타났다.
 ㄴ. 직접 전파가 문화 변동 요인으로 작용하였다.
 ㄷ. 강제적 문화 접변에 의해 기존 문화의 정체성을 상실하였다.
 ㄹ. 물질문화와 비물질문화의 변동 속도 차이로 인한 문화 지체가 발생하였다.

- ① ㄱ, ㄴ ② ㄱ, ㄷ ③ ㄴ, ㄷ ④ ㄴ, ㄹ ⑤ ㄷ, ㄹ

8. 일탈 이론 (가), (나)에 대한 설명으로 옳은 것은? [3점]

- (가) 일탈 행동은 그 행위를 인정해 주는 집단과의 긴밀한 교류를 통해 발생하게 된다. 즉, 일탈 문화가 지배적인 집단과의 접촉 빈도와 강도가 높을수록 일탈에 대한 도덕적 저항감이 완화된 일탈을 저지르게 된다.
 (나) 사회 구성원들은 자신이 속한 사회의 문화에 영향을 받아 계급과 인종의 차이에도 불구하고 공통된 문화적 목표를 갖게 된다. 하지만 이러한 목표를 달성하는 데 필요한 제도적 수단이 계층에 따라 다르게 분포되어 있어 제도적 수단이 제한된 계층에서 일탈 행동이 많이 발생하게 된다.

- ① (가)는 무규범 상태를 일탈 행동의 원인으로 강조한다.
 ② (가)는 타인과의 상호 작용을 통한 일탈의 학습 과정에 주목한다.
 ③ (나)는 부정적 자아가 형성되어 일탈 행동이 반복된다고 본다.
 ④ (나)는 일탈 행동 자체보다는 그에 대한 사회적 반응을 중시한다.
 ⑤ (나)는 (가)와 달리 일탈을 규정하는 객관적 기준이 없다고 본다.

9. 밑줄 친 ㉠ ~ ㉥에 대한 설명으로 옳은 것은? [3점]

민주화 운동으로 교도소에 수감되었던 갑은 사법고시에 합격한 후 ㉠ 사법연수원을 거쳐 ㉡ 변호사가 되었다. 어느 날 갑은 직장을 그만두게 된 ㉢ 여성 을이 남성 직원에 비해 적은 퇴직금을 받자 제기한 소송에서 패소하였음을 듣게 되었다. 갑은 1심 판결에 실망하여 ㉣ 항소를 망설이는 을에게 이 사건이 여성 전체의 권익과 관련되어 있다고 ㉤ 설득하고 무료 변론을 자처하였다. 설득력 있는 변론으로 2심을 승소로 이끈 갑은 이후에도 꾸준히 인권 신장과 사회적 약자를 위한 변론을 해 현재 ㉥ 가장 존경받는 법조인으로 평가받고 있다.

- ① ㉠은 예기 사회화를 담당하는 비공식적 사회화 기관이다.
 ② ㉡, ㉢은 모두 성취 지위이다.
 ③ ㉣은 을의 역할 갈등이다.
 ④ ㉤은 변호사로서 갑의 역할이다.
 ⑤ ㉥은 갑의 역할 행동에 대한 보상이다.

10. 다음 글의 필자가 지닌 사회·문화 현상을 바라보는 관점에 대한 설명으로 옳은 것은?

많은 사람들이 빈곤이 사라지지 않는 이유를 개인의 노력 부족에서 찾곤 한다. 예컨대, 교육이나 훈련을 게을리 하여 사회에서 요구하는 능력을 갖추지 못하면 빈곤에 빠진다는 것이다. 하지만 빈곤이 유지되는 진짜 이유는 빈곤을 둘러싼 계층 간 이해관계가 상충되기 때문이다. 자본가 입장에서는 저임금을 받고도 일을 할 수밖에 없는 빈곤층이 존재해야 값싼 노동력을 안정적으로 확보할 수 있다. 따라서 자본가는 생계 유지에 필요한 최소한의 임금만을 지불하고, 노동자는 열심히 노력해도 빈곤에서 벗어날 수 없는 구조가 지속된다.

- ① 행위 주체인 개인의 능동성과 자율성을 강조한다.
 ② 대립과 갈등을 사회 구조의 필연적 속성으로 본다.
 ③ 사회가 스스로 균형을 유지하려는 속성을 지닌다고 본다.
 ④ 개인 간의 사회적 상호 작용을 통한 의미 부여를 중시한다.
 ⑤ 사회 규범이 사회 구성원 전체의 합의를 통해 형성된다고 본다.

11. 그림은 문화의 의미에 관한 갑, 을의 대화이다. 이에 대한 옳은 설명을 <보기>에서 고른 것은? [3점]

문화는 문학, 미술, 음악 작품 등에서 나타나는 인간의 사고 및 표현의 뛰어난 정수(精髓)만을 의미하는 것입니다.



갑

제 생각은 다릅니다. 문화는 각 사회의 환경 적응 과정의 산물로서 그 사회의 총체적인 생활 양식을 의미하는 것입니다.



을

< 보 기 >

- ㄱ. 갑은 문화를 평가의 대상이 아닌 이해의 대상으로 본다.
- ㄴ. 갑은 문화를 정신적, 예술적으로 높은 수준에 도달한 것으로 인식한다.
- ㄷ. 인간의 모든 행동은 을이 말하는 문화에 포함된다.
- ㄹ. 을이 말하는 문화는 '청소년 문화'에서의 문화와 같이 넓은 의미의 문화에 해당한다.

- ① ㄱ, ㄴ ② ㄱ, ㄷ ③ ㄴ, ㄷ ④ ㄴ, ㄹ ⑤ ㄷ, ㄹ

12. 종교를 바라보는 갑, 을의 관점에 대한 설명으로 옳은 것은?

갑: 종교는 내세의 보상을 약속함으로써 정의롭지 못하고 불평등한 현실을 받아들이도록 가르칩니다. 결국 종교는 현재의 불평등을 정당화하여 부당한 사회 질서를 공고히 합니다.
을: 종교는 정기적인 행사와 의례를 통해 집단적 연대감을 키웁니다. 증폭된 연대감은 종교를 넘어 다른 주요한 영역으로 전이되며, 사회 구성원을 서로 결속시킴으로써 공유된 기준 가치들을 재확인시킵니다.

- ① 갑은 종교가 사회 개혁 의지를 강화한다고 본다.
- ② 을은 종교가 사회의 유지와 존속에 기여한다고 본다.
- ③ 갑은 을과 달리 종교가 사회의 통합을 강화한다고 본다.
- ④ 을은 갑과 달리 종교를 거시적 관점에서 바라본다.
- ⑤ 갑, 을은 모두 종교가 사회 구조적 모순을 은폐한다고 본다.

13. 밑줄 친 ㉠, ㉡에 대한 설명으로 가장 적절한 것은?

갑국의 엘리트층은 유서 깊은 사립학교들에서 교육받으면서 그 학교들 특유의 억양을 학습하며, 성인이 되어서도 학창 시절부터 몸에 밴 ㉠ 독특한 억양을 사용한다. 이외에도 갑국에는 지역 및 계층에 따라 ㉡ 다양한 방언이 존재하며, 특정 방언으로 말을 하는 것이 그 사람의 출신 지역이나 계층을 나타내는 지표로 여겨진다.

- ① ㉠은 국민 전체의 일체감을 높이는 데 기여한다.
- ② 모든 ㉡의 총합은 전체 문화이다.
- ③ ㉠은 ㉡과 달리 사회 집단을 구분하는 기준이 될 수 있다.
- ④ ㉡은 ㉠과 달리 지배적인 문화에 저항하는 문화에 해당한다.
- ⑤ ㉠, ㉡은 모두 한 사회의 문화적 다양성을 보여준다.

14. A의 일반적인 특징에 대한 옳은 설명을 <보기>에서 고른 것은?

A라는 용어는 책상과 사무실을 의미하는 단어와 지배 또는 통치를 의미하는 단어의 결합에서 유래된 것으로, 근대 이후 등장한 효율적인 조직 운영 방식을 지칭한다. A는 특정 목표를 달성하기 위해 위계화된 조직 안에서 구성원의 역할을 명확하게 구분하고 공식적인 규칙과 절차를 강조한다. 따라서 대규모 조직을 효율적이고 체계적으로 관리할 수는 있지만, 지나치게 규칙과 절차에만 집착하는 문제점을 갖기도 한다.

< 보 기 >

- ㄱ. 다품종 소량 생산 체제로의 변화에 신속하게 대응하기에 적합하다.
- ㄴ. 표준화된 업무 처리로 인해 창의성이나 융통성 발휘가 제한되기도 한다.
- ㄷ. 수평적 의사소통을 중시하고 과업에 따라 조직 형태를 바꾸는 유연성이 높다.
- ㄹ. 공개경쟁을 통해 지위를 획득할 수 있으며 연공서열에 따라 승진 기회가 제공된다.

- ① ㄱ, ㄴ ② ㄱ, ㄷ ③ ㄴ, ㄷ ④ ㄴ, ㄹ ⑤ ㄷ, ㄹ

15. 다음 자료에 대한 분석으로 옳은 것은? [3점]

표는 갑국의 정보 격차* 경험자의 학력별, 성별 비율을 나타낸 것이다. 단, 갑국은 농촌과 도시로만 이루어져 있으며 정보 격차 경험자 수는 도시가 농촌의 2배이다.

(단위: %)

구분	학력			성별	
	중졸 이하	고졸	대졸 이상	남성	여성
농촌	50	15	35	40	60
도시	50	25	25	30	70

* 정보 격차: 학력, 성별, 지역 등의 차이로 인해 정보에 대한 접근과 이용의 격차가 나타나는 현상

- ① 도시 전체 인구는 농촌 전체 인구의 2배이다.
- ② 농촌과 도시에서는 모두 학력이 낮을수록 정보 격차 경험자 수가 많아진다.
- ③ 농촌의 중졸 이하 학력의 정보 격차 경험자 수가 도시의 대졸 이상 학력의 정보 격차 경험자 수의 2배이다.
- ④ 갑국의 정보 격차 경험자 수는 여성이 남성의 2배이다.
- ⑤ 정보 격차 경험자 중에서 중졸 이하 학력의 여성이 차지하는 비율은 도시가 농촌보다 높다.

16. 표는 사회 불평등 현상을 설명하는 이론 A, B를 구분한 것이다. 이에 대한 설명으로 옳은 것은? (단, A, B는 각각 계급론과 계층론 중 하나이다.) [3점]

질문 \ 이론	A	B
위신, 명예 및 권력의 차이를 사회적 위계의 근거로 보는가?	㉠	㉡
(가)	예	예

- ① ㉠이 ‘예’라면 B는 지위 불일치의 가능성을 인정한다.
 ② ㉠이 ‘아니요’라면 A는 사회 불평등 현상을 연속적인 서열 상태로 파악한다.
 ③ ㉡이 ‘예’라면 A는 사회·정치적 불평등이 경제적 불평등에 종속된다고 본다.
 ④ ㉡이 ‘아니요’라면 B는 다차원적 요인으로 사회 불평등 현상을 설명한다.
 ⑤ (가)에는 ‘동일한 경제적 위계에 있는 집단 구성원들 간의 귀속 의식을 강조하는가?’가 들어갈 수 있다.

17. 밑줄 친 ㉠ ~ ㉤에 대한 설명으로 옳은 것은? [3점]

갑은 ‘㉠ 슬픈 감정이 상품의 ㉡ 구매 욕구에 미치는 영향’이라는 ㉢ 주제를 선정하고 연구를 진행하였다. 갑은 먼저 ㉣ 연구 대상자 100명을 선정하여 무작위로 50명씩 A, B 두 집단으로 나누었다. 이후 ㉤ A 집단에게는 슬픈 감정을 일으키는 영상을, ㉥ B 집단에게는 감정의 동요를 일으키지 않는 영상을 보여 주었다. 영상 시청이 종료된 후 두 집단에게 동일한 상품을 보여 주면서 ㉦ 상품 구매를 위하여 지불하고자 하는 금액을 묻자, A 집단이 B 집단에 비해 평균적으로 약 30% 높은 금액을 지불하겠다고 응답하였다.

- ① ㉠은 종속 변인이다.
 ② ㉢ 단계에서 연구자의 주관적 가치는 배제되어야 한다.
 ③ ㉣은 모집단이다.
 ④ ㉤은 통제 집단, ㉥은 실험 집단이다.
 ⑤ ㉦은 ㉡을 조작적으로 정의한 것이다.

18. 우리나라의 사회 보장 제도 (가), (나)에 대한 설명으로 옳은 것은?

(가) 실직하여 재취업 활동을 하는 근로자에게 일정 기간 동안 소정의 급여를 지급하여 실업 중 생활 안정을 돕고 재취업의 기회를 지원하는 제도이다. 이에 필요한 재원은 개인, 기업, 정부가 공동으로 부담한다.
 (나) 생활 유지 능력이 없거나 생활이 어려운 국민들의 진찰·검사, 처치·수술, 입원, 간호 등에 필요한 의료 급여를 지급하는 제도이다. 이에 필요한 재원은 국고보조금과 지방자치단체의 출연금 등으로 조성한 기금으로 마련한다.

- ① (가)는 상호 부조의 원리가 적용된다.
 ② (나)는 수혜 정도에 따라 비용을 부담한다.
 ③ (가)는 (나)와 달리 소득 재분배 효과가 나타난다.
 ④ (나)는 (가)와 달리 강제 가입의 원칙이 적용된다.
 ⑤ (가)는 사후 처방적 성격, (나)는 사전 예방적 성격이 강하다.

19. 사회 변동의 방향을 바라보는 관점 (가), (나)에 대한 설명으로 옳은 것은?

(가) 인구의 물질적 밀도가 증가하고 개인 사이의 사회적 공간이 감소하여 경쟁이 심화되면 희소한 자원의 효율적인 이용이 요구된다. 이에 따라 사회 제도와 기능이 분화되어 복잡성과 효율성이 증대되는 방향으로 사회가 변동한다.
 (나) 인류 역사는 지배적인 문화 체계가 물질적·쾌락적 가치를 강조하는 감각적 문화와 비물질적·정신적 가치를 중시하는 관념적 문화라는 양 극단 사이를 번갈아 오가는 과정이다. 이 과정에서 두 문화 체계가 혼합된 이상주의적 문화를 거치며, 지배적인 문화 체계의 성쇠가 주기적으로 반복된다.

- ① (가)는 사회 변동의 방향이 사회마다 다르다고 본다.
 ② (가)는 사회 변동이 곧 진보를 의미하지 않는다는 점을 간과한다.
 ③ (나)는 제국주의적 침략을 정당화한다는 비판을 받는다.
 ④ (나)는 사회 변동이 적자생존의 진화 과정을 따른다고 본다.
 ⑤ (가), (나)는 모두 사회 변동을 긍정적으로 바라본다.

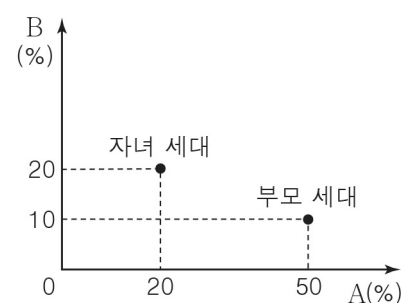
20. 다음 자료에 대한 분석으로 옳은 것은? [3점]

갑국의 계층은 A ~ C로만 구성되며, A ~ C는 각각 상층, 중층, 하층 중 하나이다. <자료 1>은 자녀 세대의 각 계층 구성원 중에서 자신의 계층이 부모의 계층보다 높은 사람의 비율과 낮은 사람의 비율을 나타낸 것이다. <자료 2>는 부모 세대와 자녀 세대의 계층 구성 비율을 나타낸 것이다. 단, 모든 부모의 자녀는 1명씩이다.

<자료 1>

	(단위: %)		
자녀 세대 계층	A	B	C
자신의 계층이 부모보다 높은 사람의 비율	0	80	50
자신의 계층이 부모보다 낮은 사람의 비율	50	0	10

<자료 2>



- ① 부모 세대와 자녀 세대 모두 다이아몬드형 계층 구조이다.
 ② 부모와 계층이 일치하는 자녀가 부모와 계층이 불일치하는 자녀보다 많다.
 ③ 부모 세대 중에서 자녀에게 계층이 대물림된 비율이 가장 높은 계층은 하층이다.
 ④ 상층에서 하층으로의 세대 간 이동과 하층에서 상층으로의 세대 간 이동은 모두 발생하지 않았다.
 ⑤ 중층 부모를 둔 자녀 중에서 세대 간 하강 이동을 한 사람이 세대 간 상승 이동을 한 사람보다 많다.

※ 확인 사항

답안지의 해당란에 필요한 내용을 정확히 기입(표기)했는지 확인하십시오.