

사회탐구 영역(세계사)

제 4 교시

성명

수험번호

3


1

1. (가) 문명에 대한 설명으로 옳은 것은?

<수행 평가 보고서>

(가) **문명의 유물**

3학년 ○반 ○○○



- 유물명: 함무라비 법전이 새겨진 비석
- 발굴 장소: 고대 수사 유적지
- 소장처: 루브르 박물관(프랑스)
- 유물의 특징:

높이 2.25미터로, 윗부분에 태양신 샤마슈와 함무라비왕의 모습이 새겨져 있고, 그 아래에는 함무라비왕이 집대성한 282개 조의 법률이 쉰글 문자로 기록되어 있음

- ① 황허강 유역에서 발달하였다.
- ② 피라미드와 �핑크스를 만들었다.
- ③ 지구라트라는 신전을 축조하였다.
- ④ 모헨조다로 등의 도시를 건설하였다.
- ⑤ 자연 현상을 찬미하는 베다를 제작하였다.

3. 밑줄 친 ‘이 시대’에 대한 설명으로 옳은 것은? [3점]



그림 속 인물인 무라사키 시키부는 소설 “겐지 이야기”의 저자이다. 건당사가 폐지되고 국풍 문화가 발달한 이 시대에 쓰인 “겐지 이야기”에는 왕족, 귀족들의 궁중 생활이 가나 문자로 표현되어 있다. 또한 이 작품 속에는 800여 수에 달하는 와카가 수록되어 있다.

- ① 도다이사가 창건되었다.
- ② 감합 무역이 이루어졌다.
- ③ 다이카 개신이 단행되었다.
- ④ 헤이안쿄를 수도로 삼았다.
- ⑤ 산킨고타이 제도가 실시되었다.

4. 밑줄 친 ‘반란’에 대한 설명으로 옳은 것은? [3점]


반란의 우두머리는 홍수전이며, 따르는 무리는 대부분 한족이라 합니다. 이들은 만주족 왕조가 강요한 변발을 금하고, 한족 왕조로 되돌리려 하고 있다고 합니다. 이들은 가는 곳마다 재화를 빼앗지 않고 부녀자에게 해를 끼치지 않아서 서민들이 안도하여 모두 복종하고 있다고 합니다.

- ① 천조전무 제도를 발표하였다.
- ② 입헌 군주제 수용을 주장하였다.
- ③ 8개국 연합군에 의해 진압되었다.
- ④ 철도 국유화 조치를 배경으로 일어났다.
- ⑤ 반일·반군벌을 내세우며 전국으로 확산되었다.

2. 다음 문화유산을 남긴 제국에 대한 설명으로 옳은 것은?


【건축물로 보는 세계사】

○○ 편



▲ 외관

이 건축물은 도리아·이오니아·코린트 양식의 기둥과 아치 구조 등이 결합되어 만들어졌다. 아치 구조는 비교적 적은 자재로 거대한 건물을 지을 수 있는 건축 기법으로 실용성을 강조한 이 제국 문화의 특징을 보여준다.




▲ 조감도

좌석이 계단식으로 배열되어 관람석 상층부에 앉았던 평민들도 검투 경기, 전차 경기 등을 보기에 용이하였다. 지하에는 동물 우리와 검투사 대기실 등이 있었다.

- ① 크리스티교를 공인하였다.
- ② 파스파 문자를 제정하였다.
- ③ 밀레트 제도를 운영하였다.
- ④ 탈라스 전투에서 승리하였다.
- ⑤ 사산 왕조 페르시아를 멸망시켰다.

5. 밑줄 친 ‘이 제국’에 대한 설명으로 옳은 것은?



▲ 파차쿠티 동상

페루의 쿠스코에 있는 아르마스 광장에는 이 제국의 전성기를 이끌었던 파차쿠티의 동상이 있다. 그는 당시 수도였던 쿠스코를 중심으로 안데스 산맥의 고원 지대를 따라 영토를 확장하면서 도로망을 구축하였고, 계단식 경작지를 만들었다. 또한 태양신을 섬기는 신전을 증축하였다.

- ① 카스트제를 확립하였다.
- ② 쿠시 왕국을 정복하였다.
- ③ 조로아스터교를 국교로 정하였다.
- ④ 에스파냐인의 침략으로 멸망하였다.
- ⑤ 점복의 내용을 갑골 문자로 기록하였다.

6. 다음 대화가 이루어진 시기에 볼 수 있는 모습으로 적절한 것은?

연, 조, 위, 한, 초, 제
6국이 남북으로 연합
하여 우리 진에 대항
하고 있소. 이를 타개할
계책을 말해 보시오.



진은 저들의 연합을 깨기 위해
6국과 각각 동서로 화친을 맺어
야 합니다. 그 후 6국을 하나씩
진에 복속시키면 천하를 도모할
수 있습니다.



- ① 교초로 물건을 사는 상인
- ② 안·사의 난을 진압하는 병사
- ③ 철제 농기구로 밭을 가는 농민
- ④ 오경정의 편찬에 참여하는 학자
- ⑤ 원강 석굴 조성에 동원되는 일꾼

7. 밑줄 친 ‘이 문화 운동’에 대한 설명으로 옳은 것은?

피렌체 관광 명소

우피치 미술관

피렌체는 메디치 가문의 후원을 바탕으로 이 문화 운동의 중심지로 발전했던 도시이다. 메디치 가문은 이 문화 운동이 전개되었던 시기에 보티첼리, 미켈란젤로, 라파엘로 등 많은 예술가들을 후원하였다. 이들의 걸작을 다량 소장하고 있는 우피치 미술관은 피렌체에서 놓칠 수 없는 관광 명소이다.

▲ 보티첼리의 ‘프리마베라’

- ① 예수회가 주도하였다.
- ② 과학적 사회주의의 영향을 받았다.
- ③ 소피스트가 등장하는 배경이 되었다.
- ④ 고딕 양식이 유행하는 계기가 되었다.
- ⑤ 그리스, 로마 고전에 대한 연구를 중시하였다.

8. 밑줄 친 ‘이 혁명’의 전개 과정에서 있었던 사실로 옳은 것은? [3점]

세계사 신문

○○○○년 7월 14일

오늘의 역사

바스티유 데이(Bastille Day)

7월 14일은 바스티유 데일로, 파리 민중의 바스티유 감옥 습격을 계기로 본격화된 이 혁명을 기념하는 날이다. 이 혁명 당시 국민 의회는 봉건적 특권의 폐지를 선언하고, ▲ 바스티유 감옥 습격 ‘인간과 시민의 권리 선언’을 발표하여 혁명의 기본 이념을 밝혔다.

- ① 공화정이 선포되었다.
- ② 보스턴 차 사건이 일어났다.
- ③ 크롬웰이 독재 정치를 시행하였다.
- ④ 데카브리스트의 봉기가 발생하였다.
- ⑤ 신성 동맹과 4국 동맹이 결성되었다.

9. 밑줄 친 ‘제국’에 대한 설명으로 옳지 않은 것은? [3점]

몽케의 뒤를 이어 제국의 대칸이 된 쿠빌라이는 남송 정복 활동을 계속하기로 하고 바얀에게 원정군의 지휘를 맡겼다. 창장강을 건넌 후 여러 지역들을 점령해 가던 바얀의 군대는 남송의 수도 임안(항저우)에 도달하였다. ... (중략) ... 마침내 바얀은 섭정을 하고 있던 사태후로부터 남송의 옥새를 건네받았다.

- ① 수시력을 제작하였다.
- ② 천호제를 운영하였다.
- ③ 삼번의 난을 진압하였다.
- ④ 색목인을 재정 관료로 등용하였다.
- ⑤ 도로망을 정비하고 역참을 설치하였다.

10. (가) 국가에 대한 설명으로 옳은 것은?



세실 로즈는 로디지아의 개발, 탕가니카에 전신선 부설, 케이프타운에서 카이로까지 철도 부설 등을 마음에 두고 있었다. ... (중략) ... “만일 신이 있다면, 그 신은 아프리카 지도가 (가)의 영역이라는 표시로 빨갛게 칠해지기를 바랄 것이다.”

- ① 탄지마트를 실시하였다.
- ② 먼로 선언을 발표하였다.
- ③ 프랑스와 파쇼다에서 대치하였다.
- ④ 중국에 21개조 요구를 제시하였다.
- ⑤ 독일과 브레스트리토프스크 조약을 체결하였다.

11. (가) 왕조의 문화에 대한 설명으로 옳은 것은? [3점]

S#1.

(스튜디오, 오프닝 자막) 인도 고전 문화의 발달



◎ 사회자: 오늘은 쿠산 왕조가 멸망한 후, 이민족의 침입으로 혼란하였던 북인도를 통일하고 수도 파탈리푸트라를 중심으로 발전하였던 (가) 왕조 시기의 문화에 대해 알아보겠습니다.

(카메라, 초대 교수 방향으로)

◎ 초대 교수: 이 시기에는 힌두교가 민족 종교로 발전하는 가운데에도 왕실의 후원으로 불교 사원이 건립되기도 하였습니다. 또한 미술에서는 인도 고유의 특색을 지닌 양식이 등장하였는데, 아잔타 석굴 사원의 연화수 보살상에 이 양식의 특징이 나타나 있습니다.

- ① 우르두어가 사용되었다.
- ② 산치 대탑이 축조되었다.
- ③ 앙코르 와트가 건립되었다.
- ④ 우파니샤드 철학이 등장하였다.
- ⑤ 산스크리트 문학이 발달하였다.


12. (가) 왕국에 대한 설명으로 옳은 것은?

유네스코 세계 유산

상수시 궁전

■ 소재지: 독일 포츠담

■ 등재 연도: 1990년



상수시 궁전은 로코코 양식을 대표하는 건축물로 프로이센의 (가) 이/가 건설하였다. 스스로를 ‘국가 제일의 공복’으로 자처한 (가) 은/는 궁전이 완성되자 여러 학자와 예술가들을 궁전으로 초청하였다. 그중 볼테르는 궁전에서 3년간 머물렀는데 ‘볼테르의 방’이 바로 그가 머물던 곳이다.

- ① 대헌장을 승인하였다.
- ② 계몽사상의 영향을 받았다.
- ③ 레판토 해전에서 승리하였다.
- ④ 상트페테르부르크를 건설하였다.
- ⑤ 콜베르를 등용하여 중상주의 정책을 펼쳤다.

13. (가) 국가의 민족 운동에 대한 설명으로 옳은 것은? [3점]

관보이찌우 선생님은 귀국의 독립을 쟁취하기 위해 나라 잃은 참상과 프랑스의 악랄한 식민 정책을 세계에 알리세요.



량치차오 선생님 말씀처럼 프랑스의 혹독한 식민 통치를 받고 있는 (가)의 현실에 대해 글을 써 보려 합니다. 또한 (가)의 청년들을 일본으로 유학시켜 새로운 지식을 습득하게 하겠습니다.

- ① 세포이의 항쟁이 일어났다.
- ② 마지막지 운동이 전개되었다.
- ③ 아기날도가 공화국을 선포하였다.
- ④ 불리바르가 독립 운동을 이끌었다.
- ⑤ 황제의 호소로 근왕 운동이 추진되었다.

14. 밑줄 친 ‘전쟁’에 대한 옳은 설명을 <보기>에서 고른 것은?


독일 정부가 영국과 아일랜드, 유럽 서부 해안, 독일의 적국이 관할하는 지중해 내의 항구에 접근하는 모든 선박을 잠수함으로 격침하겠다고 포고하였습니다. 이것은 전쟁 초기부터 독일 잠수함 작전의 목표였을 것입니다. ... (중략) ... 오스트리아-헝가리 제국은 독일 정부의 무모하고 무법적인 잠수함 작전을 무조건적으로 지지하고 있습니다.

< 보 기 >

- ㄱ. 국제 연맹 창설에 영향을 주었다.
- ㄴ. 원자 폭탄의 투하를 계기로 종결되었다.
- ㄷ. 사라예보 사건이 발단이 되어 일어났다.
- ㄹ. 포츠머스 조약이 체결되는 결과를 낳았다.

- ① ㄱ, ㄴ ② ㄱ, ㄷ ③ ㄴ, ㄷ ④ ㄴ, ㄹ ⑤ ㄷ, ㄹ

15. (가) 왕국에 대한 설명으로 옳은 것은? [3점]



그림은 투르·푸아티에 전투를 묘사한 것입니다. 말 위에 있는 인물은 (가) 왕국의 궁재 카롤루스 마르텔입니다. 그는 이 전투에서 이베리아반도를 넘어 침입해 온 이슬람 군대를 격파하였습니다.



- ① 델로스 동맹을 주도하였다.
- ② 베르됭 조약으로 분열되었다.
- ③ 카르타고 등의 식민 도시를 건설하였다.
- ④ 군사적 봉건제인 티마르제를 실시하였다.
- ⑤ 둠즈데이 북이라는 토지 대장을 만들었다.

16. 밑줄 친 ‘이 왕조’에 대한 설명으로 옳은 것은? [3점]

이 왕조는 자금성을 건설하여 베이징에 도읍한 지 200년을 넘지 않았는데, 그 동안에 정통제는 토목보에서 포로가 되고 경제제 초기에는 수도가 포위당하였고, 가정제 시기에는 북로남왜의 침입이 이어졌다. 이에 관민은 외적의 침입에 지치고 날마다 천하를 잃을까 걱정하였다.

- ① 고구려 원정을 단행하였다.
- ② 맹안·모국제를 운영하였다.
- ③ 이자성의 난으로 멸망하였다.
- ④ 분서갱유를 통해 사상을 통제하였다.
- ⑤ 러시아와 네르친스크 조약을 체결하였다.

17. 밑줄 친 ‘제국’에 대한 설명으로 옳은 것은? [3점]

사료로 보는 세계사

◆ 메흐메트 2세의 칙령

술탄인 나는 보스니아의 프란체스코회 신자들을 보호할 것임을 이 칙령을 통해 전 세계에 알리노라. 아무도 그들과 그들의 교회에 해를 가할 수 없고, 그들은 나의 제국 안에서 평화를 누리게 될 것이고, 다른 지역으로 이동하더라도 안전과 자유를 보장받을 것이다.

[해설] 콘스탄티노폴리스를 함락한 후 발칸반도의 보스니아 지역을 정복한 제국의 메흐메트 2세는 그곳의 가톨릭 프란체스코회 신자들에게 종교의 자유를 허락하는 칙령을 내렸다. 이 칙령은 다른 종교에 대해 관용을 선포한 중요한 사료로 평가를 받는다.

- ① 예니체리를 운영하였다.
- ② 타지마할을 건립하였다.
- ③ 바부르에 의해 건국되었다.
- ④ 군관구제와 둔전병제를 실시하였다.
- ⑤ 왕의 귀로 불리는 감찰관을 파견하였다.

18. 다음 연설이 행해진 시기를 연표에서 옳게 고른 것은? [3점]

현재 우리가 확보한 증거들에 따르면, 쿠바 미사일 기지 건설이 지난 수개월 동안 지속적으로 추진되었다는 것을 명확하게 보여주고 있습니다. ...(중략)... 어떤 국가의 어떤 항구에서 출발한 것이든, 쿠바로 이동 중인 모든 공격 무기를 수송하는 선박은 봉쇄될 것입니다. ...(중략)... 쿠바에서 발사된 핵미사일이 서반구의 어떤 국가를 타격하는 것을, 소련의 미국에 대한 공격으로 간주하며, 이는 소련에 대한 전면적 보복 공격을 초래할 것이라 경고합니다.

	(가)	(나)	(다)	(라)	(마)	
파리 강화 회의 개최	대공황 발생	마셜 계획 발표	닉슨 독트린 발표	베를린 장벽 붕괴	세계 무역 기구 출범	


- ① (가) ② (나) ③ (다) ④ (라) ⑤ (마)

19. 밑줄 친 ‘변화’에 대한 탐구 활동으로 가장 적절한 것은?

|| 화폐 속 인물 이야기 ||

영국 편

제임스 와트와 매튜 볼턴



지폐 속 인물은 증기 기관을 개량한 제임스 와트(우)와 동업자 매튜 볼턴(좌)이다. 이들은 ‘볼턴 앤드 와트’라는 회사를 세우고, 증기 기관을 제작하였다. 영국의 면직물 공업 분야에서 방적기와 방직기의 발명으로 시작된 산업상의 변화는 이들이 제작한 증기 기관이 새로운 동력으로 사용되면서 더욱 가속화되었다.

- ① 심사법이 제정되는 목적을 파악한다.
- ② 노동조합이 조직되는 배경을 알아본다.
- ③ 한자 동맹이 결성되는 과정을 살펴본다.
- ④ 와트 타일리의 난이 일어난 원인을 분석한다.
- ⑤ 라티퐁디움 경영이 확대되는 계기를 조사한다.

20. (가) 전쟁에 대한 설명으로 옳은 것은?



그림은 ‘링컨의 마지막 경고’라는 제목의 삽화이다. 이 삽화는 (가) 당시 링컨이 연방에서 탈퇴한 여러 주가 연방에 복귀하지 않으면 노예들을 해방시킬 것이라고 선언한 것을 풍자한 것이다.

- ① 빈 체제의 붕괴를 가져왔다.
- ② 영국의 명예혁명에 영향을 주었다.
- ③ 베스트팔렌 조약 체결로 마무리되었다.
- ④ 전개 과정에서 두 차례의 대륙 회의가 개최되었다.
- ⑤ 남부와 북부 간의 경제 구조 차이가 배경이 되어 일어났다.

※ 확인 사항

답안지의 해당란에 필요한 내용을 정확히 기입(표기)했는지 확인하십시오.