

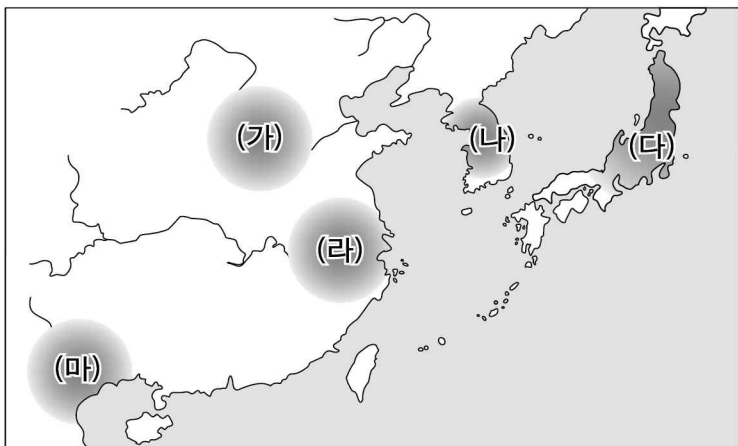
제 4 교시

사회탐구 영역 (동아시아사)

성명		수험번호					3			
----	--	------	--	--	--	--	---	--	--	--

1. 밑줄 친 ‘이 지역’을 지도에서 옳게 고른 것은?

신석기 시대 이 지역에서는 여성의 모습을 표현한 토우와 표면에 새끼줄 무늬가 있는 토기가 만들어졌다.

- ① (가) ② (나) ③ (다) ④ (라) ⑤ (마)

2. (가) 인물이 활동한 시기의 동아시아 불교에 대한 설명으로 옳은 것은? [3점]

해외에 있는 한국의 문화유산

검색 > 유럽 > 프랑스

왕오천축국전

◦ 저자: (가)

◦ 소장: 프랑스 국립 도서관

왕오천축국전은 신라 승려 (가) 이/가 오늘날의 인도와 중앙아시아 지역 등을 답사한 후 남긴 여행기이다. 중국 둔황의 천불동에서 발견된 이 책에는 답사 지역의 종교와 풍속·문화 등에 관한 기록이 실려 있다.

- ① 감진이 일본에 계율을 전하였다.
 ② 혜자가 쇼토쿠 태자의 스승이 되었다.
 ③ 달마가 참선을 중시하는 선종을 창시하였다.
 ④ 법현이 인도를 순례하고 불국기를 저술하였다.
 ⑤ 엔닌이 신라인의 도움을 받아 당에 유학하였다.

3. 밑줄 친 ‘이 나라’에 대한 설명으로 옳은 것은? [3점]

이 나라의 효문제는 적극적인 한화 정책을 추진하였다.


맞아. 한족과의 혼인을 장려하였고, 선비어의 사용을 금지하였다.



- ① 팔기제를 운영하였다.
 ② 중국의 남북조를 통일하였다.
 ③ 거란의 공격으로 멸망하였다.
 ④ 베트남에 안남도호부를 두었다.
 ⑤ 수도를 평성에서 뤼양으로 옮겼다.

4. (가)에 들어갈 내용으로 옳은 것은?

역사 인물 카드



- 이름: 유철
- 재위 기간: 기원전 141~기원전 87년
- 주요 활동
 - (가), 태학 설립
 - 남비엣 정복, 고조선 정복

- ① 균전제 실시
 ② 분서갱유 단행
 ③ 일조편법 시행
 ④ 삼변의 난 진압
 ⑤ 서역에 장건 파견

5. 다음 정책이 시행된 시기에 동아시아에서 볼 수 있는 모습으로 가장 적절한 것은? [3점]

포고문

바닷가에 거주하는 백성을 내륙으로 옮겨와 도적을 감추거나 돕는 폐단을 막고자 한다. 해안에 접해 있으면서 집을 짓고 거주하며 농사를 짓는 자가 있다면, 재물을 외국으로 반출하는 것을 금지한 법에 따라 죄를 다스리도록 하겠다.

-강희 11년-

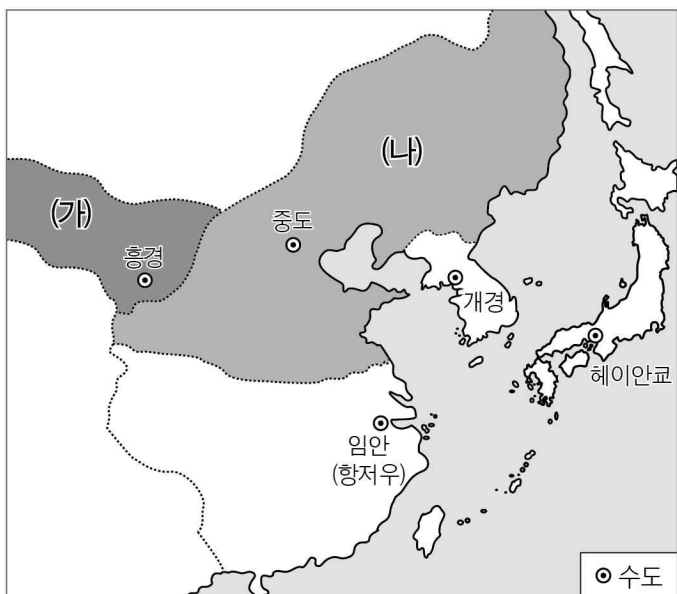
- ① 한국 - 화성 축조를 명령하는 국왕
 ② 중국 - 사고전서를 편찬하는 학자
 ③ 일본 - 청 상선에 실패를 발급하는 관리
 ④ 일본 - 데지마에 거주하는 네덜란드 상인
 ⑤ 베트남 - 몽골과의 전투에 참여하는 군인

6. (가) 국가의 대외 활동으로 옳은 것은?



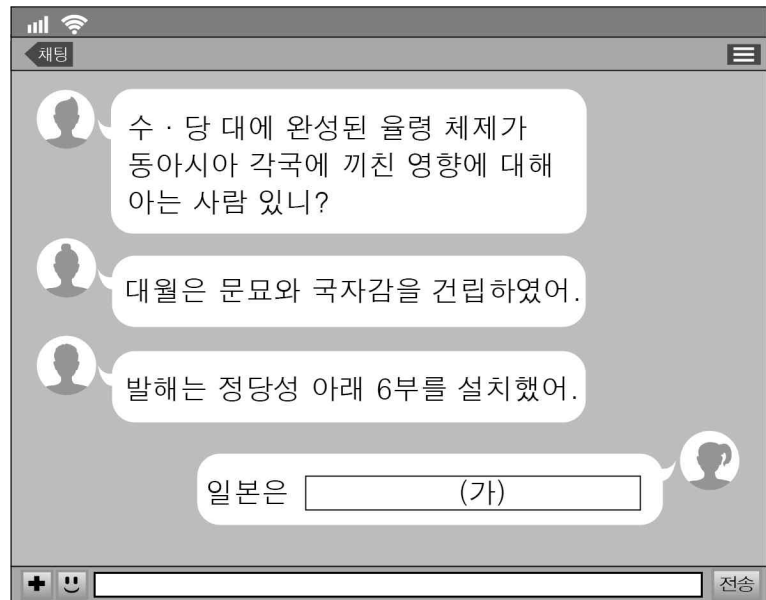
- ① 송과 전연의 맹약을 맺었다.
- ② 북제와 북주로부터 조공을 받았다.
- ③ 각 지방에 다루가치를 파견하였다.
- ④ 신라와 연합하여 백제를 멸망시켰다.
- ⑤ 호라즘을 멸망시키고 동서 무역로를 확보하였다.

7. (가), (나) 국가에 대한 설명으로 옳은 것은? [3점]



- ① (가) - 연운 16주를 차지하였다.
- ② (가) - 맹안·모극제를 시행하였다.
- ③ (나) - 최고 통치자를 선우라 칭하였다.
- ④ (나) - 고려에 군신 관계를 요구하였다.
- ⑤ (나) - (가)와 함께 일본을 공격하였다.

8. (가)에 들어갈 내용으로 가장 적절한 것은?



- ① 향거리선으로 관리를 선발했어.
- ② 중앙 관제로 2관 8성을 두었어.
- ③ 문필 기관인 문적원을 설치했어.
- ④ 향촌 조직으로 이갑제를 운영했어.
- ⑤ 국학생을 대상으로 독서삼품과를 시행했어.

9. (가), (나) 사이 시기의 동아시아 상황으로 옳은 것은? [3점]

(가) 나가시노성을 둘러싸고 오다 노부나가의 군대와 다케다 가쓰요리의 군대가 충돌하였다. 오다 노부나가의 군대는 조총을 이용한 새로운 전법으로 치열한 전투 끝에 다케다 군대의 강력한 기마 군단을 물리쳤다.

(나) 도쿠가와 이에야스가 이끄는 동군과 이시다 미쓰나리가 이끄는 서군이 정권의 주도권을 놓고 세키가하라에서 충돌하였다. 이 전투에서 승리한 도쿠가와 이에야스는 새로운 막부를 수립하기 위한 토대를 마련하였다.

- ① 한국 - 한산도 대첩에서 승리하였다.
- ② 한국 - 일본과 기유약조를 체결하였다.
- ③ 중국 - 토목보의 변이 일어났다.
- ④ 일본 - 덴메이 대기근이 발생하였다.
- ⑤ 베트남 - 레러이가 레 왕조를 건국하였다.

10. 다음 상황이 전개된 시기를 연표에서 옳게 고른 것은?

서양에 대한 민중의 감정은 크리스티교의 확산과 독일의 산둥 진출을 계기로 더욱 악화되었다. 결국 성난 민중은 “청을 도와 서양 세력을 물리치자.”라는 구호를 내세우면서 봉기하여 교회당을 불사르고 외국 공관을 공격하였다. 그러나 이 봉기는 8개국 연합군이 베이징을 점령하면서 진압되었다.

	(가)	(나)	(다)	(라)	(마)
제2차 아편 전쟁 발발	청·프 전쟁 발발	변법자강 운동	신해혁명 발발	5·4 운동	제1차 국·공 합작 체결
① (가)	② (나)	③ (다)	④ (라)	⑤ (마)	

11. (가) 인물에 대한 설명으로 옳은 것은?

이 글은 [가] 이/가 심즉리에 대해 설명한 내용입니다. 그는 성리학의 형식화를 비판하고, 치양지를 주장했습니다.

이(理)는 모두 마음속에 있는 것이며 마음이 곧 이(理)이다. 마음에 사욕의 가림이 없으면 그것이 바로 천리(天理)이니, 조금이라도 밖에서 무엇 하나 가져와 보탬 것이 없다.

—『전습록』—



- ① 백운동 서원을 세웠다.
- ② 지행합일을 중시하였다.
- ③ 오경정의를 편찬하였다.
- ④ 사서집주를 저술하였다.
- ⑤ 강행과 학문적으로 교류하였다.

12. (가) 막부에 대한 설명으로 옳은 것은?

파일(F) 편집(E) 보기(V) 즐겨찾기(A) 도구(T) 도움말(H)

[창] [인] [X]

한국의 세계 기록 유산

▲

동요보감

조선 통신사에 관한 기록

훈민정음

난중일기

조선왕조실록

▼

조선 통신사에 관한 기록

- 17 ~ 19세기 한·일 간
평화 구축과 문화 교류의 역사 -

조선 통신사에 관한 기록은 일본의 [가] 막부 쇼군의 초청으로 12회에 걸쳐 조선에서 일본으로 파견되었던 외교 사절단에 관한 자료를 총칭하는 것이다. 등재된 자료는 한국의 124점과 일본의 209점이다.

- ① 다이카 개신을 단행하였다.
- ② 다이호 율령을 반포하였다.
- ③ 산킨코타이제를 운영하였다.
- ④ 중국과 감합 무역을 하였다.
- ⑤ 사무라이도코로를 설치하였다.

13. (가), (나)에 들어갈 내용으로 옳지 않은 것은?

탐구 활동 보고서

- 탐구 주제: 동아시아의 과거제
- 탐구 활동: 동아시아 각국에서 관리 선발에 활용된 과거제에 대해 조사한다.
- 모둠별 조사 결과
 - 1모둠: 한 국 - [가]
 - 2모둠: 중 국 - [나]
 - 3모둠: 베트남 - 리 왕조 때 처음 실시되었다.

- ① (가) - 고려 광종 때 처음 실시되었다.
- ② (가) - 조선에서는 문과, 무과, 잡과로 시행되었다.
- ③ (나) - 한대에는 동중서의 제안으로 채택되었다.
- ④ (나) - 명대에는 학교 제도와 연계하여 운영되었다.
- ⑤ (나) - 송대에는 황제가 주관하는 전시가 실시되었다.

14. (가), (나) 조약에 대한 설명으로 옳은 것은? [3점]

- (가) ○ 시모다와 하코다테 이외에 다음의 장소를 개방한다.
가나가와, 나가사키, 니가타, 효고 등.

○ 일본에 수출입하는 모든 상품은 미국과 일본 정부가 협의하여 정한 세율에 따라 일본 정부에 관세를 납부한다.

(나) ○ 조선은 자주국이며, 일본과 평등한 권리를 가진다.

○ 조선은 부산 이외 두 곳의 항구를 개항하고 일본인이 왕래 통상함을 허가한다.

- ① (가) - 미국의 영사 재판권을 인정하였다.
- ② (가) - 일본이 서양과 맺은 최초의 근대적 조약이다.
- ③ (나) - 최혜국 대우 규정이 포함되었다.
- ④ (나) - 크리스티교 선교의 자유를 허용하였다.
- ⑤ (가), (나) - 영토 할양 규정이 포함되었다.

15. (가), (나) 사이 시기에 동아시아에서 있었던 사실로 옳은 것은?

[3점]

(가)

(나)



닉슨 대통령의 중국 방문



미국과 중국의 국교 수립

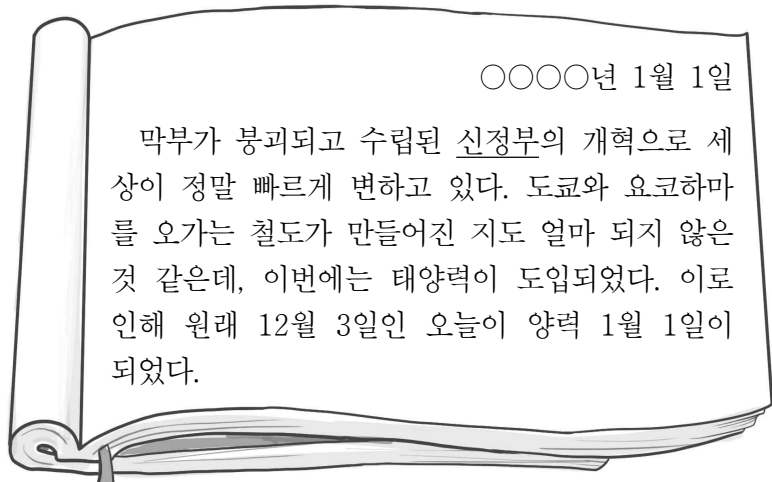
- ① 한국 - 4·19 혁명이 일어났다.
- ② 한국 - 일본과 국교를 수립하였다.
- ③ 중국 - 대약진 운동이 시작되었다.
- ④ 일본 - 자유당과 민주당이 통합하였다.
- ⑤ 베트남 - 베트남 사회주의 공화국이 수립되었다.

16. 밑줄 친 ‘이 전쟁’에 대한 설명으로 옳은 것은? [3점]

한반도에서 발발한 이 전쟁에 참전한 미국은 군수 물자를 대량으로 일본에 발주하였다. 이를 통해 일본은 제2차 세계 대전에서 패망하기 이전의 경제 수준으로 회복할 수 있었다. 그리고 세계적인 경제 호황에 편승하여 1950년대 중반 이후에는 연평균 10%가 넘는 경제 성장률을 기록하기도 하였다.

- ① 루거우차오 사건을 계기로 일어났다.
- ② 통킹만 사건을 빌미로 미국이 개입하였다.
- ③ 일본이 평화 헌법을 제정하는 배경이 되었다.
- ④ 샌프란시스코 강화 조약 체결에 영향을 미쳤다.
- ⑤ 중화 인민 공화국이 수립되는 결과를 가져왔다.

17. 밑줄 친 ‘신정부’ 시기에 동아시아에서 있었던 사실로 옳은 것은? [3점]



- ① 한국 - 을묘왜변이 일어났다.
- ② 중국 - 홍콩을 영국에 할양하였다.
- ③ 중국 - 영국인이 신보(申報)를 창간하였다.
- ④ 일본 - 오닌의 난이 시작되었다.
- ⑤ 베트남 - 제네바 협정이 체결되었다.

18. 밑줄 친 ‘이 전쟁’ 중에 있었던 사실로 옳은 것은?



그림은 일본군 ‘위안부’ 피해자인 ○○○ 할머니가 심리 치료 과정에서 그린 것이다.

할머니는 일본의 진주만 기습으로 시작된 이 전쟁 중에 17세의 나이로 일본 순사에게 끌려가 중국 지린성 창춘의 위안소에서 고통의 시간을 보내야 했다. 종전 후 일본군은 위안소 운영 증거를 없애기 위해 일본군 ‘위안부’들을 불태워 죽이기도 하였는데, 그림은 이를 나타낸 것이다.

- ① 일본이 국제 연맹에서 탈퇴하였다.
- ② 베트남에서 동유 운동이 전개되었다.
- ③ 중국 공산당이 대장정을 시작하였다.
- ④ 알타 회담에서 소련의 대일 참전이 결정되었다.
- ⑤ 일본과 미국이 가쓰라·태프트 밀약을 체결하였다.

19. 밑줄 친 ‘이 도시’에 대한 설명으로 옳은 것은?

○○에게

나는 오늘부터 며칠간 이 도시의 역사 유적지를 답사할 예정이다. 이 도시는 난징 조약이 체결된 후 영국, 미국, 프랑스 등의 조계가 설치된 곳이야. 오늘은 황푸강가에 있는 와이탄에 갈거야. 이곳에는 당시 건축된 서구식 건물들이 즐비해 이국적인 풍경을 볼 수 있어.

내일은 옛날에 홍콩 공원으로 불렸던 루쉰 공원에 가고 해. 이곳은 윤봉길의 의거가 있었던 곳이야.

다시 편지할게.

□□로부터

- ① 공행이 설치되었던 곳이다.
- ② 텐안먼 사건이 일어났던 곳이다.
- ③ 경사 대학당이 설립되었던 곳이다.
- ④ 아주 화친회가 결성되었던 곳이다.
- ⑤ 대한민국 임시 정부가 수립되었던 곳이다.

20. (가), (나) 사이 시기에 동아시아에서 있었던 사실로 옳은 것은? [3점]

(가) 한국에서는 외환 위기로 국제 통화 기금(IMF)의 구제금융 지원이 결정된 후, 야당 후보인 김대중이 대통령으로 당선되어 광복 이후 최초로 선거를 통한 평화적 여·야 정권 교체가 이루어졌다.

(나) 일본에서는 장기 불황과 집권당의 비리 문제로 총선거에서 민주당이 승리하였고, 여·야 정권 교체가 이루어져 하토야마 유키오가 총리로 취임하였다.

- ① 한국 - 6월 민주 항쟁이 일어났다.
- ② 중국 - 문화 대혁명이 일어났다.
- ③ 일본 - 록히드 사건이 발생하였다.
- ④ 베트남 - 도이머이 정책이 시작되었다.
- ⑤ 타이완 - 천수이볜이 총통으로 선출되었다.

* 확인 사항

○ 답안지의 해당란에 필요한 내용을 정확히 기입(표기)했는지 확인하시오.