

2019학년도 대학수학능력시험 9월 모의평가 문제 및 정답

- 매교시 종료 후 탑재됩니다.(중증시각장애 수험생 시험시간 기준)
- 모든 문제 및 정답은 PDF파일로 되어 있습니다.(단, 듣기 파일은 MP3파일)
- 탑재된 파일은 수험생에게 제공된 문제지와 다르게 보일 수도 있습니다.

저작권 안내

이 문제지에 관한 저작권은 한국교육과정평가원에 있습니다.
한국교육과정평가원의 허락없이 문제의 일부 또는 전부를 무단 복제, 배포, 출판,
전자출판 하는 등 저작권을 침해하는 일체의 행위를 금합니다.



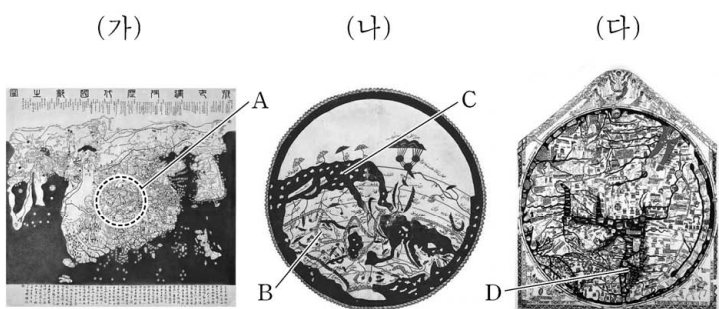
제 4 교시

사회탐구 영역(세계 지리)

성명

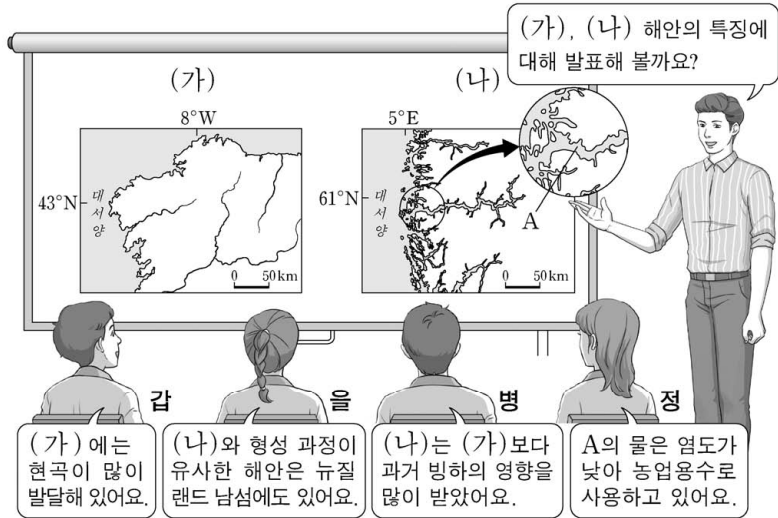
수험 번호

1. (가)~(다) 지도에 대한 설명으로 옳은 것은? [3점]



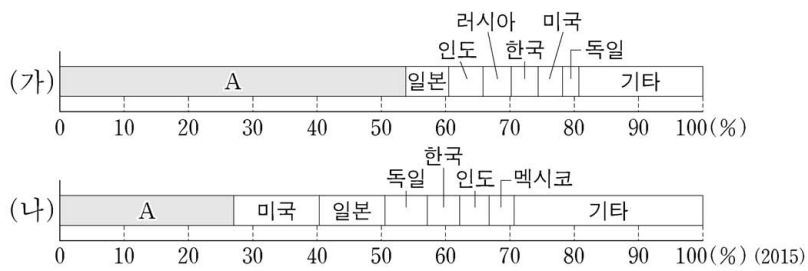
- ① (가)는 지구가 구체(球體)라는 인식이 반영되어 있다.
- ② (나)는 지도의 위쪽이 동쪽이다.
- ③ (다)는 이슬람교 세계관에 따라 제작되었다.
- ④ A는 B 대륙에 위치하고 있다.
- ⑤ C와 D의 바다는 모두 지중해를 나타낸 것이다.

2. 다음은 ‘세계의 하천 및 해안 지형’ 단원의 수업 장면이다. 교사의 질문에 옳은 대답을 한 학생을 고른 것은?



- ① 갑, 을 ② 갑, 병 ③ 을, 병 ④ 을, 정 ⑤ 병, 정

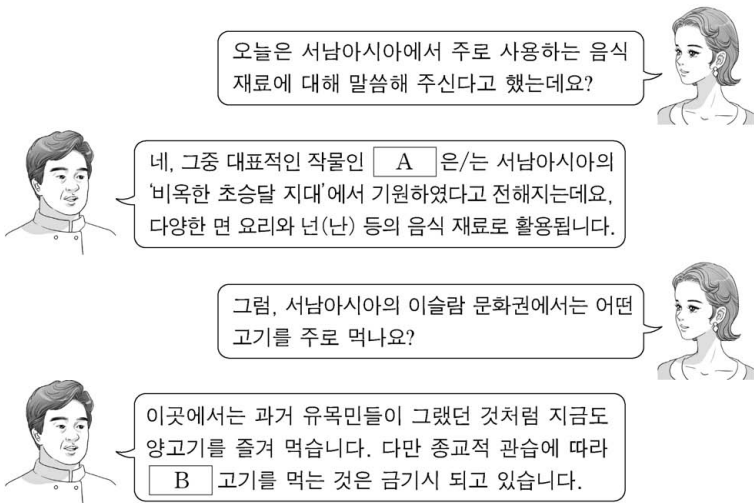
3. 그래프는 (가), (나) 공업의 국가별 생산량 비중을 나타낸 것이다. 이에 대한 옳은 설명을 <보기>에서 고른 것은? (단, (가), (나)는 자동차, 철강 중 하나임.) [3점]



<보 기>
ㄱ. (가)는 부품을 조립하여 최종 상품을 생산하는 공업이다.
ㄴ. (나)의 상위 5개국 생산량은 전체 생산량의 절반을 넘는다.
ㄷ. A는 아시아에 속한다.
ㄹ. 1인당 국내 총생산은 A가 일본보다 많다.

- ① ㄱ, ㄴ ② ㄱ, ㄷ ③ ㄴ, ㄷ ④ ㄴ, ㄹ ⑤ ㄷ, ㄹ

4. 다음은 세계 음식 문화 탐방과 관련된 방송 프로그램의 내용 중 일부이다. A, B에 대한 옳은 설명을 <보기>에서 고른 것은?



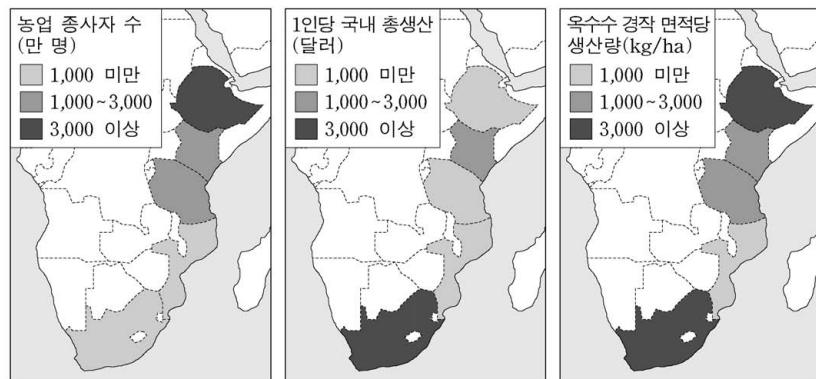
<보 기>
ㄱ. A는 프랑스 사람들이 많이 먹는 바게트의 주재료이다.
ㄴ. B는 유럽의 농경 사회에서 노동력을 대신하는 가축이다.
ㄷ. A의 생산량과 B의 사육 두수가 가장 많은 국가는 중국이다.
ㄹ. 서남아시아의 전통 농업 방식은 A와 B를 결합한 혼합 농업이다.

- ① ㄱ, ㄴ ② ㄱ, ㄷ ③ ㄴ, ㄷ ④ ㄴ, ㄹ ⑤ ㄷ, ㄹ

5. 다음 자료를 토대로 하나의 국가를 선택하여 농업 기술 센터의 건립을 지원하고자 한다. 가장 적합한 국가를 고른 것은? (단, 합산 점수가 가장 높은 국가를 선택함.)

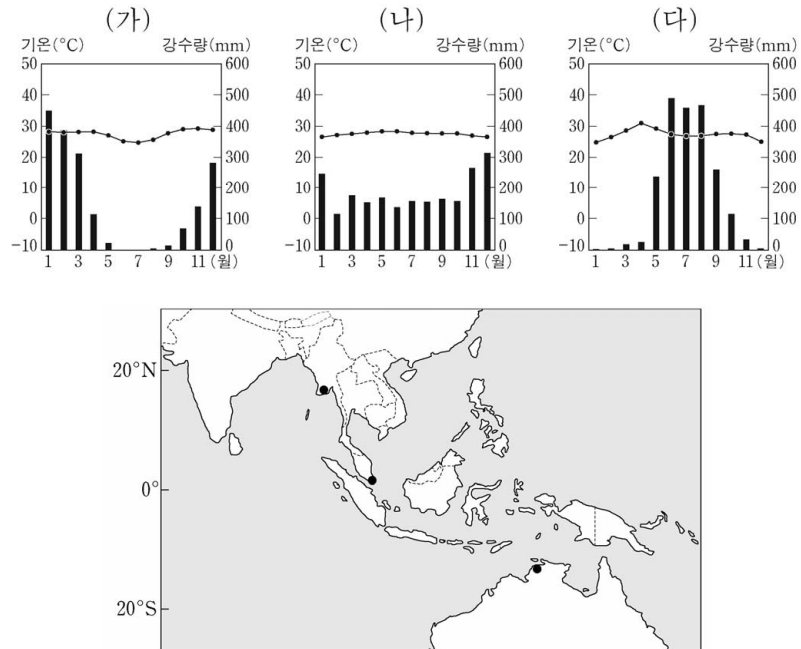
〈점수 산정 기준〉				
평가 항목	평가 점수			가중치
	1점	2점	3점	
농업 종사자 수 (만 명)	1,000 미만	1,000~3,000	3,000 이상	1
1인당 국내 총생산 (달러)	3,000 이상	1,000~3,000	1,000 미만	1
옥수수 경작 면적당 생산량(kg/ha)	3,000 이상	1,000~3,000	1,000 미만	2

* 합산 점수는 평가 항목당 평가 점수에 가중치를 곱한 값의 합임.



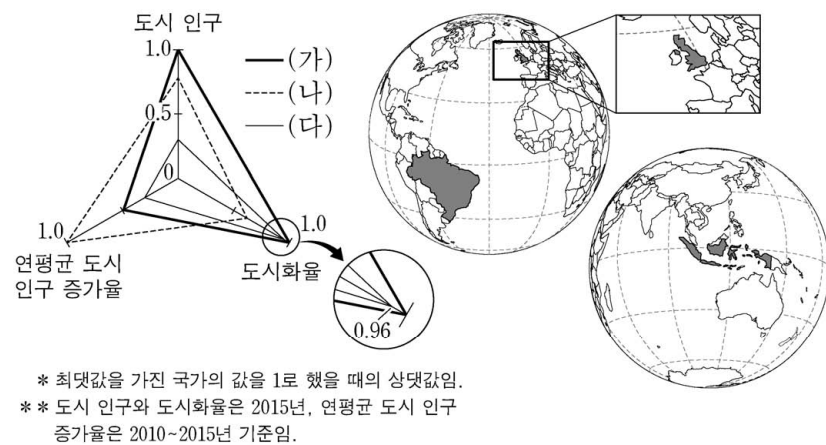
- ① 에티오피아 ② 케냐
③ 탄자니아 ④ 모잠비크
⑤ 남아프리카 공화국

6. 그래프는 지도에 표시된 세 지역의 월평균 기온과 월 강수량을 나타낸 것이다. (가)~(다) 지역에 대한 설명으로 옳지 않은 것은? [3점]



- ① (가)는 건기와 우기의 구분이 뚜렷하다.
 ② (나)는 기온의 연교차가 일교차보다 크게 나타난다.
 ③ (다) 주변에서는 벼농사가 활발히 이루어진다.
 ④ (가)는 (나)보다 적도 수렴대의 영향을 받는 기간이 짧다.
 ⑤ (나)는 (다)보다 북회귀선으로부터 멀리 떨어져 있다.

7. 그래프는 지도에 표시된 세 국가의 도시화 특성을 나타낸 것이다. (가)~(다)에 대한 옳은 설명을 <보기>에서 고른 것은? [3점]



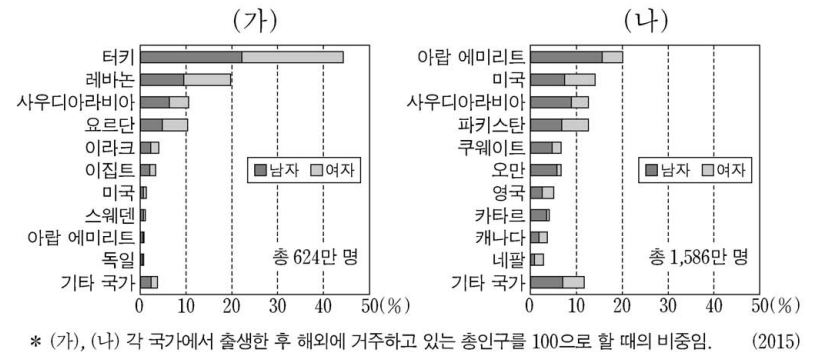
* 최댓값을 가진 국가의 값을 1로 했을 때의 상대값임.
 ** 도시 인구와 도시화율은 2015년, 연평균 도시 인구 증가율은 2010~2015년 기준임.

<보 기>

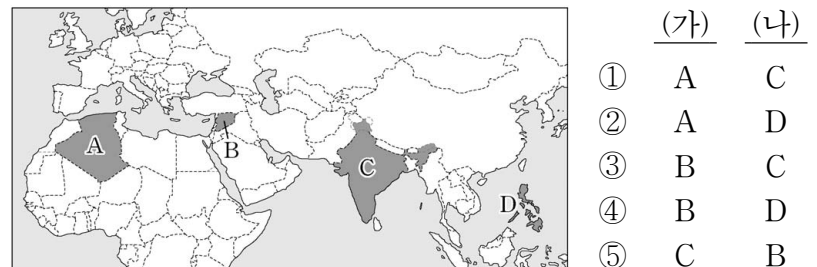
- ㄱ. (가)는 유럽에 속한 국가이다.
 ㄴ. (다)는 세 국가 중 총인구가 가장 많다.
 ㄷ. (나)는 (가)보다 이촌 향도 현상이 활발하다.
 ㄹ. (다)의 수도는 (나)의 수도에 비해 세계 도시 계층이 높다.

- ① ㄱ, ㄴ ② ㄱ, ㄷ ③ ㄴ, ㄷ ④ ㄴ, ㄹ ⑤ ㄷ, ㄹ

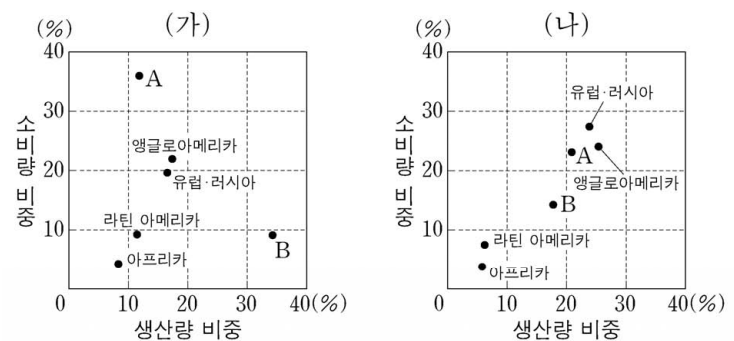
8. 그래프는 (가), (나) 국가에서 해외로 이주한 인구의 국가별 분포를 나타낸 것이다. (가), (나)에 해당하는 국가를 지도의 A~D에서 고른 것은? [3점]



* (가), (나) 각 국가에서 출생한 후 해외에 거주하고 있는 총인구를 100으로 할 때의 비중임. (2015)



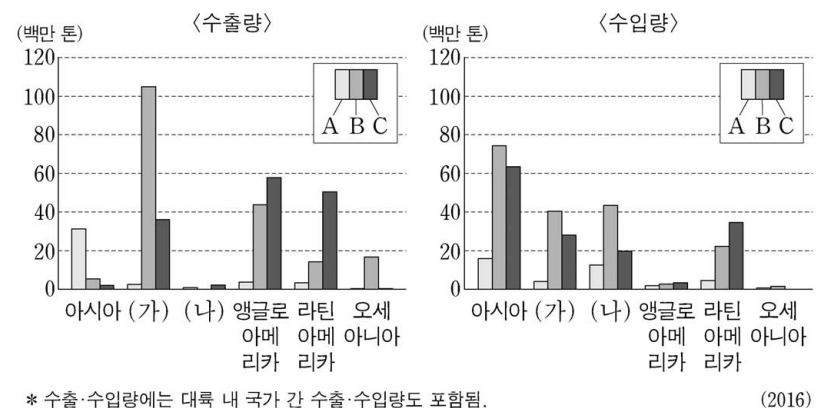
9. 그래프는 주요 화석 에너지 자원 (가), (나)의 지역별 생산량과 소비량 비중을 나타낸 것이다. 이에 대한 설명으로 옳은 것은? (단, A, B는 서남아시아, 아시아·태평양 중 하나임.)



* 오세아니아는 아시아·태평양에 포함됨.
 ** 구소련 중 중앙아시아 국가는 아시아·태평양에 포함되며, 그 밖의 국가는 유럽·러시아에 포함됨. (2016)

- ① (가)는 냉동 액화 기술이 개발된 이후 소비가 급증하였다.
 ② (나)는 세계 1차 에너지 소비 구조에서 차지하는 비중이 가장 높다.
 ③ (가)는 (나)보다 공업에 본격적으로 이용된 시기가 늦다.
 ④ A에 해당하는 지역은 아시아·태평양이다.
 ⑤ B는 (가)의 소비량 대비 생산량 비율이 가장 낮다.

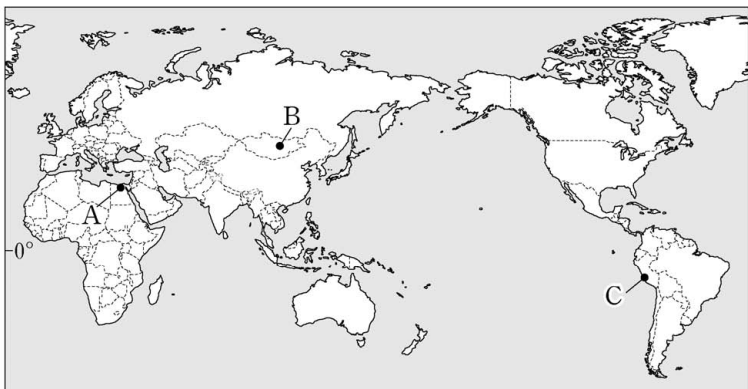
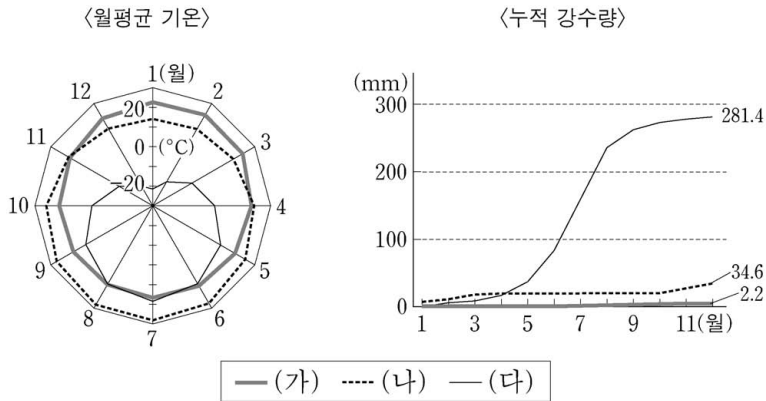
10. 그래프는 세계 3대 식량 작물의 수출·수입량을 대륙별로 나타낸 것이다. 이에 대한 설명으로 옳지 않은 것은?



* 수출·수입량에는 대륙 내 국가 간 수출·수입량도 포함됨. (2016)

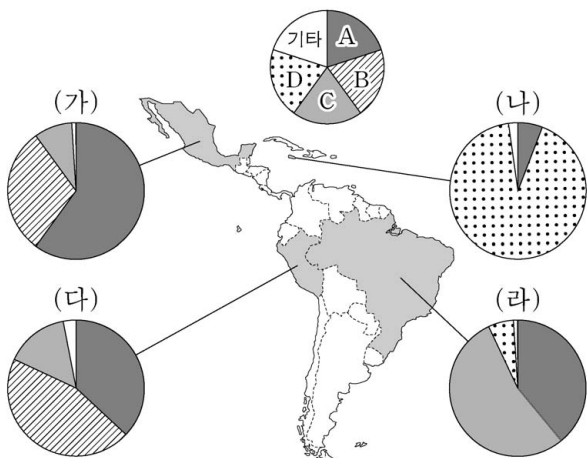
- ① A의 최대 생산 국가는 아시아에 위치한다.
 ② B의 수출량과 수입량의 합이 가장 많은 대륙은 (가)이다.
 ③ C의 원산지는 (나)에 위치한다.
 ④ A는 C보다 바이오 에탄올의 원료로 이용되는 비중이 낮다.
 ⑤ B는 A보다 내한성과 내건성이 우수하다.

11. 그래프는 지도에 표시된 세 지역의 월평균 기온 및 누적 강수량을 나타낸 것이다. (가)~(다)에 해당하는 지역을 지도의 A~C에서 고른 것은? [3점]



- | | | | | | | | |
|---|-----|-----|-----|---|-----|-----|-----|
| | (가) | (나) | (다) | | (가) | (나) | (다) |
| ① | A | B | C | ② | A | C | B |
| ③ | B | C | A | ④ | C | A | B |
| ⑤ | C | B | A | | | | |

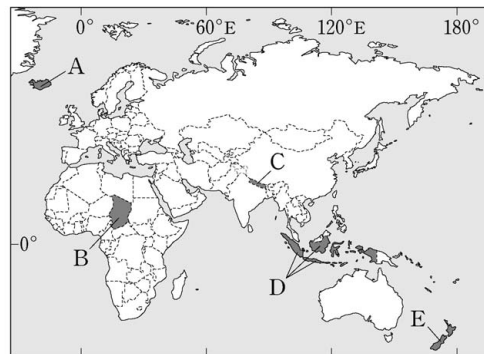
12. 다음 자료는 (가)~(라) 국가의 인종(민족)별 구성비를 나타낸 것이다. 이에 대한 설명으로 옳은 것은? (단, A~D는 백인, 원주민, 혼혈, 흑인 중 하나임.) [3점]



- ① C는 과거 플랜테이션 노동력 확보를 위해 강제로 이주되었다.
- ② D의 조상들은 잉카 문명과 아스테카 문명을 발달시켰다.
- ③ A는 D보다 라틴 아메리카 전체 인구에서 차지하는 비중이 높다.
- ④ B는 C보다 라틴 아메리카에서 경제적 지위가 높다.
- ⑤ (가)~(라) 중 백인의 비중이 가장 높은 국가의 공용어는 에스파냐어이다.

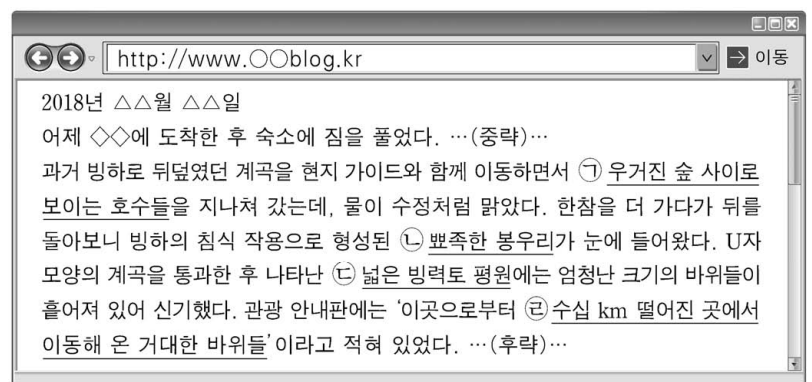
13. 다음은 학생과 교사가 어떤 국가에 대해 스무고개를 하고 있는 장면의 일부이다. (가)에 해당하는 국가를 지도의 A~E에서 고른 것은?

학생	교사
한 고개: 판의 경계에 위치합니까?	→ 예
두 고개: 영국과의 시차가 9시간 이상입니까?	→ 아니요
세 고개: 열대 우림이 넓게 나타납니까?	→ 아니요
네 고개: 대륙판과 대륙판이 충돌하는 곳입니까?	→ 아니요
다섯 고개: 이 국가는 (가) 입니까?	→ 예



- ① A ② B ③ C ④ D ⑤ E

14. 자료의 ㉠~㉣에 대한 옳은 설명을 <보기>에서 고른 것은? [3점]

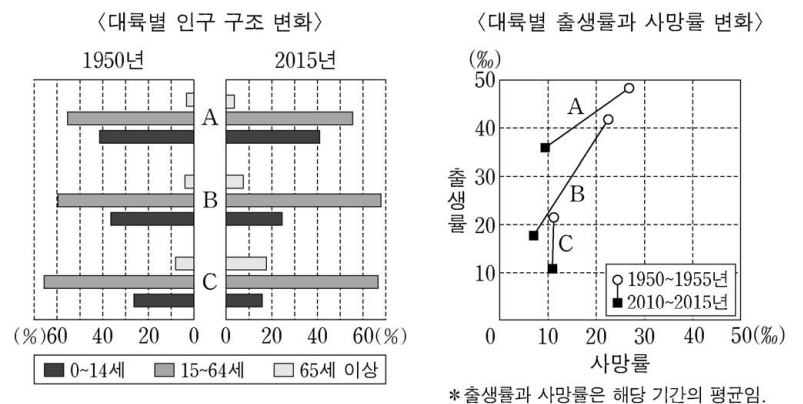


<보 기>

- ㉠은 플라야이다.
- ㉡은 권곡과 권곡이 접하는 산정부로 호른이라 불린다.
- ㉢에는 자갈, 모래, 점토 등 다양한 크기의 물질이 섞여 있다.
- ㉣은 바람의 침식 작용으로 형성된 삼릉석이다.

- ① ㉠, ㉡ ② ㉠, ㉢ ③ ㉡, ㉢ ④ ㉡, ㉣ ⑤ ㉢, ㉣

15. 그래프는 대륙별 인구 특성을 나타낸 것이다. A~C에 대한 설명으로 옳은 것은? (단, A~C는 아시아, 아프리카, 유럽 중 하나임.)



- ① A는 아시아에 해당한다.
- ② 1950년 총부양비는 B가 가장 낮다.
- ③ 2015년 유소년 인구 부양비는 C가 가장 높다.
- ④ 1950~1955년 인구의 자연 증가율은 A가 C보다 낮다.
- ⑤ 2010~2015년 인구 1,000명당 출생자 수는 B가 C보다 많다.

16. 표의 (가)~(다) 종교에 대한 옳은 설명을 <보기>에서 고른 것은? (단, (가)~(다)는 불교, 이슬람교, 크리스트교 중 하나임.) [3점]

〈지역별 총인구 대비 신자 수 비중〉 (단위: %)

지역 종교	아시아·태평양	앵글로아메리카	서남아시아 및 북부 아프리카	유럽	중·남부 아프리카	라틴아메리카
힌두교	25.3	0.7	0.5	0.2	0.2	0.1
(가)	24.3	1.0	93.0	5.9	30.2	0.1
(나)	11.9	1.1	0.1	0.2	0.0	0.0
(다)	7.1	77.4	3.7	75.2	62.9	90.0
기타	31.4	19.8	2.7	18.5	6.7	9.8
합계	100	100	100	100	100	100

* 오세아니아는 아시아·태평양에 포함되고, 기타에는 무종교가 포함됨.

〈보 기〉

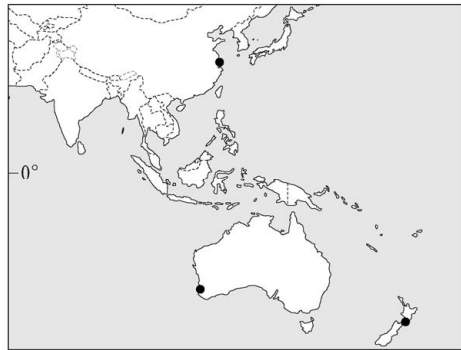
- ㄱ. (가)의 대표적 종교 경관으로는 모스크가 있다.
 ㄴ. (나)의 주요 성지로는 룬비니, 부다가야 등이 있다.
 ㄷ. (다)는 수많은 신을 인정하는 다신교이다.
 ㄹ. (가)는 보편 종교, (나)는 민족 종교로 분류된다.

- ① ㄱ, ㄴ ② ㄱ, ㄷ ③ ㄴ, ㄷ ④ ㄴ, ㄹ ⑤ ㄷ, ㄹ

17. 표는 지도에 표시된 세 지역의 낮 길이와 강수량을 나타낸 것이다. A~C 지역에 대한 설명으로 옳은 것은? (단, (가), (나) 시기는 1월과 7월 중 하나임.)

구분	(가) 시기 낮 길이	(나) 시기 강수량
A	10시간 16분	9 mm
B	13시간 57분	39 mm
C	9시간 31분	78 mm

* 낮 길이는 해당 월의 평균값임.



- ① A는 (가) 시기보다 (나) 시기에 강수량이 많다.
 ② B는 (가) 시기보다 (나) 시기에 정오의 태양 고도가 높다.
 ③ A~C 중 (나) 시기에 낮 길이가 가장 짧은 곳은 C이다.
 ④ A는 C보다 (나) 시기의 평균 기온이 높다.
 ⑤ C는 B보다 계절풍의 영향을 많이 받는다.

18. 다음 글의 ㉠~㉣에 대한 옳은 설명을 <보기>에서 고른 것은? [3점]

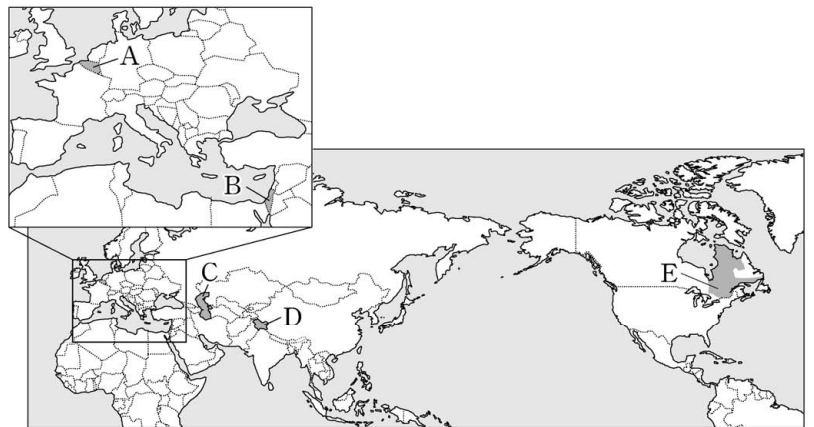
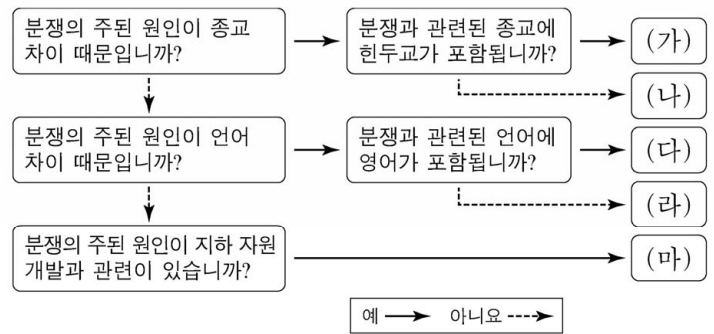
- 지구 온난화로 인해 극빙하가 줄어들고 해수면 상승으로 인해 저지대가 침수하는 등의 문제가 발생하였다. 이에 대응하고자 국제 사회는 1997년에 ㉠ 을/를 채택하였고, 2015년에 ㉡ 파리 협정을 체결하였다.
 ○ 세계 각국은 1987년 몬트리올 의정서를 채택하여 ㉢ 오존층 파괴 물질의 배출을 철저히 규제해 왔다. 이런 노력의 결과, 2015년에 측정한 ㉣ 오존 홀(구멍)은 2000년과 비교해 대폭 축소된 것으로 나타났다.

〈보 기〉

- ㄱ. ㉠은 교토 의정서이다.
 ㄴ. ㉡은 선진국의 온실가스 감축 의무를 면제하고 있다.
 ㄷ. ㉢에 큰 영향을 미치는 물질은 염화플루오린화탄소(CFCs)이다.
 ㄹ. ㉣은 남반구에서는 나타나지 않는다.

- ① ㄱ, ㄴ ② ㄱ, ㄷ ③ ㄴ, ㄷ ④ ㄴ, ㄹ ⑤ ㄷ, ㄹ

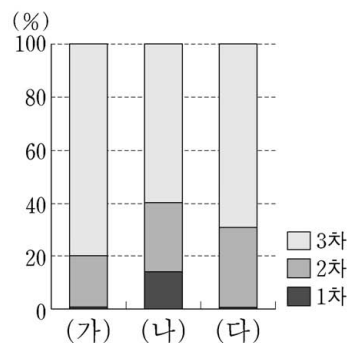
19. 그림은 주요 분쟁 지역을 구분한 것이다. (가)~(마)에 해당하는 분쟁 지역의 사례와 지도의 A~E가 바르게 연결된 것은?



- ① (가) - E ② (나) - B ③ (다) - C
 ④ (라) - D ⑤ (마) - A

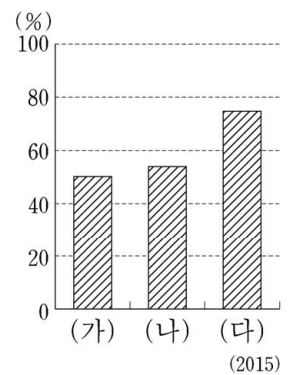
20. 그래프의 (가)~(다)에 해당하는 국가를 지도의 A~C에서 고른 것은?

〈1차, 2차, 3차 산업의 비중〉



* 산업의 비중은 국내 총생산 기준임.

〈2차 산업 내 제조업의 비중〉



- | | (가) | (나) | (다) |
|---|-----|-----|-----|
| ① | A | B | C |
| ② | A | C | B |
| ③ | B | A | C |
| ④ | B | C | A |
| ⑤ | C | A | B |

* 확인 사항

- 답안지의 해당란에 필요한 내용을 정확히 기입(표기)했는지 확인 하시오.