

제 4 교시

사회탐구 영역(동아시아사)

성명

수험 번호

제 [] 선택

1. (가)에 전시될 유물로 가장 적절한 것은?

제2 전시실

동아시아 신석기 문화
= ○○○ 문화 =

- 특 징: 창장강 하류에서 발달한 문화의 하나로, 범새와 농기구 등이 출토되어 벼농사가 이루어졌음을 알 수 있다.
- 전시품: 토기, 간석기 등

(가)

○○○ 토기



2. (가) 인물에 대한 설명으로 옳은 것은? [3점]

구정: 천자의 권력이 온 천하에 미치는 것을 상징하는 청동 제기

▲ 후한 시대에 제작된 화상석

이 화상석은 구정과 (가)에 관한 이야기를 묘사한 것이다. 구정은 하의 우임금 때 만들어져 주가 멸망할 때 사라졌다고 한다. 6국을 통일하고 최초로 황제 칭호를 사용한 (가)은/는 『사기』에 따르면 쓰수이에서 이 구정을 건져 내려 하였으나 끝내 얻지 못했다고 한다.

- ① 군현제를 시행하였다.
- ② 남비엣을 정복하였다.
- ③ 좌현왕과 우현왕을 두고 통치하였다.
- ④ 준왕을 몰아내고 정권을 장악하였다.
- ⑤ 히미코 여왕에게 친위왜왕의 칭호를 주었다.

3. (가) 국가의 대외 관계에 대한 설명으로 옳은 것은?

(가)의 아울덕광이 석경당을 대진 황제로 책봉하며, 자신의 의관을 풀어 하사하였다. 그러자 석경당은 단을 쌓고 그날 하늘에 고한 뒤 황제에 즉위하였다. 그리고 약속한 대로 유주·계주·탁주·운주·웅주 등의 16개 주를 떼어서 (가)에 바쳤다. 아울러 해마다 비단 30만 필도 헌상하기로 하였다.

- ① 백등산에서 한 고조를 포위하였다.
- ② 백강 전투에서 왜군과 격돌하였다.
- ③ 호라즘을 정복하고 비단길을 장악하였다.
- ④ 송과 전연에서 형제의 맹약을 체결하였다.
- ⑤ 무로마치 막부와 조공·책봉 관계를 맺었다.

4. (가), (나) 인물에 대한 설명으로 옳은 것은?

(가)은/는 병사를 보내어 (나)의 왕자와 궁빈, 대신의 가솔을 포로로 사로잡은 다음, 못 장수들에게 이들을 해하지 않도록 지시하였다. 이로써 포로가 된 이들이 무사히 돌아올 수 있었다. …(중략)… (가)이/가 다다른 한강의 삼전도 남쪽에 비석을 세운다.

- ○○○○○○비 -

- ① (가) - 후금을 건국하였다.
- ② (나) - 아담 살과 교류하였다.
- ③ (가)는 (나)에게 군신 관계를 요구하였다.
- ④ (나)는 (가)에게 통신사 파견을 요청하였다.
- ⑤ (나)는 (가)의 요청으로 강홍립을 파병하였다.

5. (가) 국가에 대한 설명으로 옳은 것은? [3점]

묘지명을 통해 본 동아시아사

자료는 허난성 뤼양에서 출토된 원현준의 묘지명이다. 원현준의 성은 본래 '탁발'이지만 여기에는 '원'이라 새겨져 있다. 이는 평성에서 뤼양으로 수도를 옮긴 (가)이/가 한족의 언어와 풍습을 적극적으로 받아들인 호한 융합 정책의 사례로 볼 수 있다.

- ① 낙랑군을 축출하였다.
- ② 견당사를 파견하였다.
- ③ 왕망에 의해 멸망하였다.
- ④ 맹안·모극제를 운영하였다.
- ⑤ 5호 16국 시대의 분열을 수습하였다.

2 (동아시아사)

사회탐구 영역

6. (가) 왕조에 대한 설명으로 옳은 것만을 <보기>에서 고른 것은?

찬보*는 돌궐과 토욕혼이 (가)의 공주들과 결혼한다는 소식을 듣고, 사신을 보내 많은 금은보화와 표문을 바치며 구혼하였으나 허락받지 못했다. 얼마 후 토변이 여러 차례 변경을 소란케 하자 (가)의 황제는 군대를 보내 몰아내었다. 이에 찬보가 군사를 물리고 사죄하며 재차 청혼하자, 황제는 마지못해 공주를 처로 삼도록 허락하였다.

- 『통감기사본말』 -

* 찬보: 토변 왕인 캄포(감포)의 한자 표기

<보 기>

- ㄱ. 장전을 서역에 파견하였다.
- ㄴ. 정북지에 도호부를 설치하였다.
- ㄷ. 왜의 노국왕에게 금인을 주었다.
- ㄹ. 신라와 연합하여 고구려를 멸망시켰다.

- ① ㄱ, ㄴ ② ㄱ, ㄷ ③ ㄴ, ㄷ ④ ㄴ, ㄹ ⑤ ㄷ, ㄹ

7. (가) 국가에 대한 설명으로 옳은 것은?

[동아시아사 역할극 대본]

S#11. 역관이 (가)의 사신과 베이징 객관에서 대화를 나누는 장면
 역관: 어떻게 이 먼 길을 오셨습니까?
 사신: 작년에 바다를 건너 취안저우에 도착하였고, 다시 7천여 리를 육로로 와서 올해 8월에 베이징에 도착하였습니다.
 역관: 일본 사람과 비슷하게 보이는데 귀국과 일본의 거리는 얼마나 됩니까?
 사신: 대략 1만여 리입니다.
 역관: 귀국 땅에는 어떤 물자가 남니까?
 사신: 거북의 등 껍데기, 유황 같은 것들이 남습니다. 여러 나라 상인들이 우리 나라의 나하항을 통해 교역하고 있습니다.

- ① 슈인장을 발행하여 무역을 통제하였다.
- ② 서양과의 교역을 담당하는 공행을 두었다.
- ③ 책문에서 개시와 후시 무역을 실시하였다.
- ④ 물라카를 점령하여 향신료 무역을 전개하였다.
- ⑤ 명과의 조공 무역을 통해 생사 등을 수입하였다.

8. (가)의 전개 과정 중에 있었던 사실로 옳은 것은?

한국인 의용병들은 용감성과 뛰어난 통솔력으로 유명하였다. 그들은 (가) 중 장파쿠이의 철기군, 주페이더의 제3군 등에 가담하여 격렬한 전투를 벌였다. ... (중략) ... 중앙집행위원회의 결의에 따라 (가) 을/를 위해 광저우에서 출발한 혁명군은 불과 수개월 만에 창장강 유역까지 도달하였다. 그리고 난징에 수도를 두고 중국을 통일하였다. 그 과정에서 당시 혁명가들이 느꼈던 환희와 열광은 지금도 생생히 떠오를 정도로 대단했다. 화북으로! 그리고 한국으로! 우리의 가슴은 미칠 듯이 요동쳤다.

- ① 홍군이 대장정을 감행하여 옌안에 도달하였다.
- ② 장제스가 쿠데타를 일으켜 공산당을 탄압하였다.
- ③ 국민당의 지원을 받아 한국 광복군이 창설되었다.
- ④ 항일 전쟁을 위해 제2차 국·공 합작이 성사되었다.
- ⑤ 양세봉의 조선 혁명군이 중국 의용군과 연합 작전을 펼쳤다.

9. 밑줄 친 '이 시기'의 동아시아 경제 상황에 대한 설명으로 옳지 않은 것은? [3점]

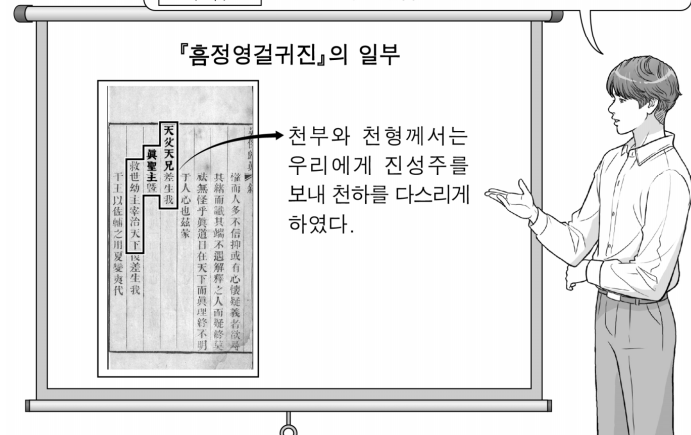
이 그림은 강남 지방의 대표적인 도시 쑤저우를 그린 것입니다. 그림이 그려진 이 시기 쑤저우는 수도와 강남을 잇는 수로 교통의 이점 등을 활용해 물산 집산지로 성장하였습니다.



- ① 한국 - 내상이 일본 상인과 교역하였다.
- ② 한국 - 청해진을 중심으로 해상 무역이 발달하였다.
- ③ 중국 - 세금 납부 수단으로 은을 주로 사용하였다.
- ④ 일본 - 산킨코타이 제도로 교통망이 정비되었다.
- ⑤ 일본 - 조카마치를 중심으로 상공업이 번성하였다.

10. (가) 운동에 대한 설명으로 옳은 것은? [3점]

자료의 천부와 천형은 각각 상제와 예수의 의미로 보입니다. 진성주라 자칭하는 그는 남녀 평등과 청초 타도 등을 내세우며 (가) 운동을 이끌었습니다.



- ① 번을 폐지하고 현을 설치하였다.
- ② 반외세를 주장하며 산둥성에서 시작되었다.
- ③ 이홍장 등 한인 관료층의 주도로 진압되었다.
- ④ 월슨이 주장한 민족 자결주의의 영향을 받아 일어났다.
- ⑤ 상하이 개항을 규정한 난징 조약 체결의 원인이 되었다.

11. (가), (나) 국가에 대한 설명으로 옳은 것은?

이것은 8세기 동아시아 두 국가의 율령 일부입니다. 이처럼 율령은 각국의 사정에 따라 다양하게 운용되었습니다.

(가)	(나)
<ul style="list-style-type: none"> • 율·령·식을 운용하는 데 있어 불편한 경우는 모두 보고하고 상서성에 의논하여 정한 다음 황제에게 아뢰어야 한다. <p>(중략)</p> <ul style="list-style-type: none"> • 모든 현은 주에 예속되고 모든 주는 상서성에 예속된다. 	<ul style="list-style-type: none"> • 태정관의 태정대신은 모든 이에게 모범이 될 뿐만 아니라, 중도를 지키며 나라를 다스릴 줄 아는 이로 1인을 둔다. <p>(중략)</p> <ul style="list-style-type: none"> • 무릇 국사는 관할하는 군을 매년 한 번 순행한다.

- ① (가) - 인사를 담당하는 식부성을 두었다.
- ② (가) - 유목민을 통치하는 북면관제를 실시하였다.
- ③ (나) - 교육 기관으로 주자감을 설립하였다.
- ④ (나) - 관리 선발에 독서삼품과를 활용하였다.
- ⑤ (나) - (가)에 사절을 보내 조공하였다.

12. (가), (나) 시기 사이에 있었던 사실로 옳은 것은? [3점]

(가) 유럽을 모델로 근대화를 추진하여 의회를 개설한 일본은 동해에서 차르의 발트 함대를 제압하였다. 이로써 의화단 진압을 계기로 만주에 주둔한 차르의 제국과 동아시아 패권을 두고 벌인 전쟁은 일본에 유리하게 종결되었다.

(나) 후베이성에서 신군이 봉기를 일으켰다. 이들은 공화정 수립을 목표로 하는 혁명파의 영향을 받아, 이번 거사의 목적이 만주족 정부를 전복하는 데 있음을 밝혔다. 또한 각국 정부에 엄정 중립을 준수해 줄 것을 요청하였다.

- ① 전주 화약이 체결되었다.
- ② 대한국 국제가 선포되었다.
- ③ 일본이 타이완을 할양받았다.
- ④ 흥정 헌법 대강이 반포되었다.
- ⑤ 쑨원이 임시 대통령에 취임하였다.

13. (가) 왕조 시기에 동아시아에서 있었던 사실로 옳은 것은? [3점]

○ 타타르의 알탄이 침입하여 수도 인근 구베이 지역까지 이르렀는데도, 함주아가 거짓으로 이미 물러갔다고 말하여 방비가 느슨해졌다. 이때를 틈타 알탄은 (가)의 수도 베이징을 포위하고 마시(馬市)의 개설을 요구하였다.

○ 동남쪽에 위치한 푸저우 등의 푸젠 지역에서 왜구가 소요를 일으키자, (가)의 장수 척계광이 그들을 격퇴하였다. 패퇴한 왜구들이 숨어 지내다, 관군의 추격이 두려워 곧장 바다 너머로 도망하였다.

- ① 오삼계 등이 삼변의 난을 일으켰다.
- ② 아시카가 다카우지가 막부를 세웠다.
- ③ 찰홍다오가 몽골의 침입에 대항하였다.
- ④ 여진을 정벌하기 위해 별무반이 조직되었다.
- ⑤ 포르투갈 상인이 일본에 조총을 전해주었다.


14. (가) 인물이 활동하던 시기 동아시아의 불교에 대한 설명으로 옳은 것은?

동아시아 불교 교류 특별전

중국의 승려인 (가)은/는 우여곡절 끝에 일본으로 건너가 정식으로 계율을 전하였습니다. 그의 헌신이 일본 불교의 발전에 기여한 바를 살펴보시기 바랍니다.

• 날 짜: 202△년 ○월 ○일 ~ ◇일

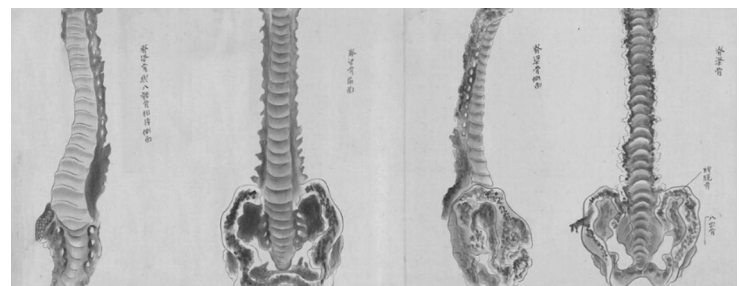
• 장 소: □□ 박물관



▲ 쇼무 상황에게 수계 의식을 행하는 (가)

- ① 한국 - 이차돈의 순교를 계기로 불교가 공인되었다.
- ② 중국 - 달마가 선종을 창시하였다.
- ③ 중국 - 원강 석굴 사원이 조성되기 시작하였다.
- ④ 일본 - 도다이사가 창건되었다.
- ⑤ 일본 - 혜자가 쇼토쿠 태자의 스승이 되었다.

15. (가) 막부 시기 동아시아에서 있었던 사실로 옳은 것만을 <보기>에서 고른 것은? [3점]



그림은 (가) 막부의 의학자 다치바나 난케이가 만든 『헤이지로 장도』의 일부이다. 평소 난학에 관심이 많았던 그는 나가사키를 통해 전래된 서양 의학서의 내용이 정확한지 확인하기 위해 직접 해부를 실시한 후 위와 같은 해부도를 남겼다.

<보 기>

- ㄱ. 탈춤 등 공연 문화가 발달하였다.
- ㄴ. 한자를 변형한 가나가 만들어졌다.
- ㄷ. 홍루몽 등 대중 소설이 유행하였다.
- ㄹ. 혜초가 왕오천축국전을 저술하였다.

- ① ㄱ, ㄴ
- ② ㄱ, ㄷ
- ③ ㄴ, ㄷ
- ④ ㄴ, ㄹ
- ⑤ ㄷ, ㄹ

4 (동아시아사)

사회탐구 영역

16. (가) 인물에 대한 설명으로 옳은 것은?

동아시아사 신문 19△△년

강국 건설의 도전과 과제

(가) 은/는 “새로운 역사 시기에 우리 당이 분투해야 할 목표는 우리 나라를 현대적 농업, 현대적 공업, 현대적 국방, 현대적 과학 기술을 갖추게 하고 고도의 민주주의와 고도의 문명을 가진 강국으로 건설해 나가는 것이다.”라고 주장하며 개혁을 추진하였다. 또한 그는 농촌에서 인민공사를 사실상 해체하고 가족 농업으로 전환하여 생산과 처리를 자율적으로 시행하는 등 농촌 체제 개혁을 추진하고 활력을 불어넣었다.

- ① 선전 등지에 경제특구를 설치하였다.
- ② 유신 헌법을 통해 장기 집권을 꾀하였다.
- ③ 문화 대혁명을 일으켜 반대파를 제거하였다.
- ④ 총통에 당선되어 여야 정권 교체를 이루어 내었다.
- ⑤ 55년 체제 이후 비자민당 출신의 첫 총리가 되었다.

17. 다음 칙령을 반포한 국가에 대한 설명으로 옳은 것은? [3점]

칙령 제○○호

소학교령

제1조 소학교를 보통·고등 2단계로 나눈다.

제2조 소학교의 설치, 구역, 위치는 지방행정관이 정하는 바에 의한다.

제3조 아동의 학령은 6세부터 14세까지로 하고, 부모 및 후견인 등은 취학 연령의 아동으로 하여금 보통 교육을 받게 하는 의무를 가진다.

- ① 동중서의 건의로 태학을 설치하였다.
- ② 국자감을 경사대학당으로 개편하였다.
- ③ 천황의 통치권을 규정한 헌법을 제정하였다.
- ④ 제1차 사이공 조약을 통해 3개 항구를 개항하였다.
- ⑤ 덕·체·지를 강조하는 교육입국 조서를 공포하였다.

18. 밑줄 친 ‘첫 만남’ 이후 나타난 사실로 옳은 것만을 <보기>에서 고른 것은? [3점]

미국은 긴장 상태에 있던 양국 관계를 개선하기 위해 비밀리에 키신저를 중국에 보냈다. 그는 저우언라이와 이틀 동안 베이징에서 두 정상의 회담을 조율하면서, 마오쩌둥의 건강 상태에 맞추어 일정을 진행하도록 합의하였다. …(중략)… 마오쩌둥은 돌연 닉슨이 도착하는 대로 바로 만나겠다고 하여, 저우언라이는 공식 오찬이 끝나자마자 닉슨을 곧바로 마오쩌둥의 서재로 안내하였다. 이로써 둘의 역사적인 첫 만남이 성사되었다.

<보 기>

ㄱ. 한·일 기본 조약이 체결되었다.

ㄴ. 중·일 공동 성명이 발표되었다.

ㄷ. 베트남 민주 공화국이 수립되었다.

ㄹ. 미군이 베트남에서 전면 철수하였다.

- ① ㄱ, ㄴ ② ㄱ, ㄷ ③ ㄴ, ㄷ ④ ㄴ, ㄹ ⑤ ㄷ, ㄹ

19. (가)에 들어갈 내용으로 적절한 것만을 <보기>에서 고른 것은?

〈어느 일본 병사의 전쟁 기억〉

<보 기>

ㄱ. 국가 총동원법의 반포 소식을 전해 들음.

ㄴ. 아주 화친회의 결성식 초청장을 전달받음.

ㄷ. 일본군의 과달카날섬 철수 소식을 접함.

ㄹ. 파리 강화 회의 대표단 환송식에 참가함.

- ① ㄱ, ㄴ ② ㄱ, ㄷ ③ ㄴ, ㄷ ④ ㄴ, ㄹ ⑤ ㄷ, ㄹ

20. (가) 조약에 대한 설명으로 옳지 않은 것은? [3점]

○ 8일 오전 (가)의 조인식이 엄숙히 진행되었다. 이날 일본의 전권 대사인 요시다 수상은 식장에서 각국 대표와 악수를 하며 인사를 나누었다. 그러나 소련·폴란드·체코슬로바키아 3국의 대표는 이에 서명하지 않았다.

- ○○신문 -

○ 중국 정부는 결코 (가)을/를 인정할 수 없다는 공식 성명을 발표하였다. 6·25 전쟁 중 미국의 주도로 만든 이 조약의 제2장은 명목상 일본의 영토 문제를 해결하기 위한 것으로 보인다. 그러나 이 조약의 실제 목적은 미국이 ‘조약’의 이름으로 일본을 동아시아의 반공 기지로 삼는 것이다.

- □□일보 -

- ① 일본의 전쟁 포기 조항이 명시되었다.
- ② 경찰 예비대가 창설된 이후에 체결되었다.
- ③ 한국이 초청받지 못한 상태에서 맺어졌다.
- ④ 일본의 주권 승인 조항을 포함하고 있다.
- ⑤ 미·일 안보 조약과 같은 날에 조인되었다.

* 확인 사항

○ 답안지의 해당란에 필요한 내용을 정확히 기입(표기)했는지 확인 하시오.